







۱	<p>عدد ۲ میلیارد چقدر از ۹۰۰ میلیون بیشتر است؟</p> <p>(الف) ۱۱ تا صد میلیون (ب) ۱۱۰۰۰۰۰۰۰۰۰ (ج) ۲ میلیارد و ۹۰۰ میلیون (د) صد و ده میلیون</p>
۲	<p>در الگوی ...، ۱۶، ۹، ۱، ۴، عدد چهارم، چند است؟</p> <p>(الف) ۴۰ (ب) ۱۶۰ (ج) ۱۶۰۰ (د) ۱۶۸۱</p>
۳	<p>قد محسن ۱ متر و ۳۵ سانتی‌متر و ۸ میلی‌متر است. او ۱۰ سانتی‌متر و ۹ میلی‌متر از برادرش حسن کوتاه‌تر است. قد حسن چقدر است؟</p> <p>(الف) ۱ متر و ۴۵ سانتی‌متر و ۷ میلی‌متر (ب) ۱ متر و ۲۵ سانتی‌متر و ۱ میلی‌متر (ج) ۱ متر و ۲۴ سانتی‌متر و ۹ میلی‌متر (د) ۱ متر و ۴۶ سانتی‌متر و ۷ میلی‌متر</p>
۴	<p>دو بسته‌ی ۱۰۰ تایی، اسکناس ۱۰۰ هزار ریالی داریم. این مقدار پول برابر چند اسکناس ۵۰ هزار تومانی است؟</p> <p>(الف) ۱۰ (ب) ۲۰ (ج) ۴۰ (د) ۵۰</p>
۵	<p>نصف، شش تا ۱۰۰ هزار، برابر است با؟</p> <p>(الف) ۶۰۰۰۰۰ (ب) ۶۰۰۰۰ (ج) ۳۰۰۰۰۰ (د) ۳۰۰۰۰۰۰</p>
۶	<p>حاصل عبارت‌های زیر را به دست آورید؟</p> <p>$۳۸۱۰۰۰۰۰۰ - ۲۶۰۰۰۰۰۰۰ =$ $۴,۹۰۰,۰۰۰,۰۰۰ \div ۷۰۰,۰۰۰,۰۰۰ =$</p> <p>$\begin{array}{r} ۱۳۶۰۰۰ \\ \times \quad ۵۰ \\ \hline \end{array}$ $۱۳۰۰۰۰۰ \mid ۴۰۰۰۰$</p>
۷	<p>محور زیر را کامل کنید و عددهای زیر را به صورت تقریبی روی محور نشان دهید.</p> <p>۲,۰۰۰,۰۰۰,۰۰۰ ۳۰,۰۰۰,۰۰۰,۰۰۰ ۴۸,۰۰۰,۰۰۰,۰۰۰ ۱۲,۰۰۰,۰۰۰,۰۰۰</p> 
۸	<p>الگوهای عددی زیر را ادامه دهید یا کامل کنید.</p> <p>..... ، ، ، هشتصد میلیون ، هفتصد میلیون ، ششصد میلیون</p> <p>..... ، ، ، ۶:۵۰':۴۰" ، ۶:۴۰':۳۰" ، ۶:۳۰':۲۰"</p> <p>..... ، ، ، ۹ ۱۶ ۲۵</p> <p>۱۰ کیلومتر، ۹ کیلومتر و ۶۰۰ متر، ۹ کیلومتر و ۲۰۰ متر، ،</p>

۹	<p>پدر امین در ۳۰ شهریور ماه سال ۱۳۶۰ به دنیا آمده است. اگر امروز ۱۳ آبان سال ۱۳۹۴ باشد، سن دقیق او را به دست آورید؟</p>
۱۰	<p>مساحت یک آپارتمان ۱۰۰ متر مربع است. اگر قیمت هر متر مربع کاشی ۱۵۰۰۰ تومان و دستمزد بنایی هر متر مربع کاشی ۲۰۰۰۰ تومان باشد، هزینه کاشی کاری کف این آپارتمان چند تومان می‌شود؟</p>
۱۱	<p>جاهای خالی را با عبارتهای مناسب کامل کنید.</p> <p>– قد مهشید برابر ۱۵۶۴ میلی‌متر است؛ یعنی متر و سانتی‌متر و میلی‌متر</p> <p>– ۳۶ میلیارد از ۳۶۰۰ تا ساخته شده است.</p> <p>– از ۱ تا ۵۰، تعداد عدد مربعی وجود دارد.</p> <p>– صد تا ۲۰۰ متر برابر است با کیلومتر</p> <p>– کوچکترین عدد ۹ رقمی زوج برابر است با هزار تا</p>
۱۲	<p>اختلاف زمانی دو ساعت زیر را به دست آورید؟ (هر دو ساعت قبل از ظهر را نشان می‌دهند).</p> <div style="display: flex; justify-content: space-around;">   </div>
۱۳	<p>با توجه به الگوی زیر، شکل بعدی را رسم کنید.</p> <div style="display: flex; justify-content: space-around; align-items: center;">    </div> <p>حساب کنید شکل ششم چند دایره دارد .</p> <p>الگوی عددی این سوال را تا شکل دهم بنویسید .</p>
موفق باشید	

پیاموز | Biamoz.com

بزرگترین مرجع آموزشی و نمونه سوالات درسی تمامی مقاطع

شامل انواع | نمونه سوالات | فصل به فصل | پایان ترم | جزوه |

ویدئوهای آموزشی | گام به گام | طرح درس | طرح جابر | و ...

اینستاگرام

گروه تلگرام

کانال تلگرام

برای ورود به هر پایه در سایت ما روی اسم آن کلیک کنید

دبستان

اول	دوم	سوم	چهارم	پنجم	ششم
-----	-----	-----	-------	------	-----

متوسطه اول

هفتم	هشتم	نهم
------	------	-----

متوسطه دوم

دهم	یازدهم	دوازدهم
-----	--------	---------