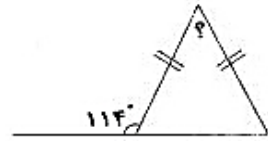
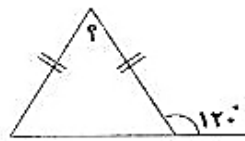
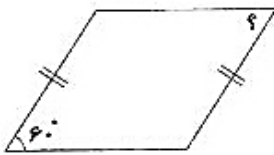
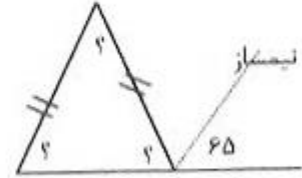
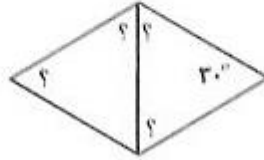
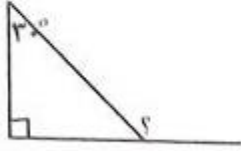
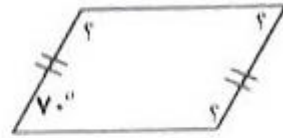
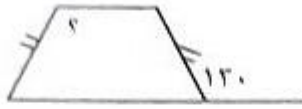


خداوند مهربان در قرآن کریم می فرماید: هر کس به اندازه ذره ای کار خوب انجام دهد پاداش آن را می گیرد.

۱	اگر نیمسازهای همه ی زاویه های یک متوازی الاضلاع را رسم کنیم از برخورد آنها چه شکلی پدید می آید؟
۲	در یک چهار ضلعی دو زاویه هر یک ۱۲۰ درجه هستند سومین زاویه ۸۰ درجه می باشد چهارمین زاویه چند درجه است؟
۳	دو زاویه مکمل یکدیگرند (روی هم ۱۸۰ درجه هستند) و اندازه ی یکی از چهار برابر دیگری ۲۰ درجه بیشتر است. اندازه ی هر کدام چه قدر است؟
۴	اندازه ی هر زاویه ی داخلی یک پنج ضلعی منتظم چند درجه است؟
۵	اندازه ی هر زاویه ی خارجی یک چند ضلعی منتظم ۴۵ درجه است. اندازه ی هر زاویه ی داخلی آن چند درجه است؟
۶	یک زاویه ی نیم صفحه را به نسبت های ۲ و ۳ و ۴ تقسیم کرده ایم اندازه ی هر یک از زاویه ها چند درجه است؟
۷	یک زاویه سه برابر زاویه ی دیگر است و تفاضل آنها ۵۴ درجه است اندازه ی هر کدام چه قدر است؟
۸	دو زاویه با هم تشکیل نیم صفحه می دهند و اندازه ی یکی $\frac{3}{4}$ دیگری است. اندازه ی هر کدام چه قدر است؟

۹ در شکل های زیر اندازه ی زاویه های خواسته شده را به دست آورید.



۱۰ سارا $\frac{1}{4}$ پولش را مداد تراش و $\frac{1}{4}$ بقیه را دفتر و $\frac{1}{5}$ دیگر را خودکار خرید و ۱۲۰۰ تومان برایش باقی ماند تمام پول او چه قدر است؟


۱۱ نسبت طول مستطیلی به عرض آن مثل ۵ به ۲ می باشد اگر محیط آن ۱۱۲ سانتی متر باشد طول آن چه قدر است؟

۱۲ شش برابر سن علی با پنج برابر سن رضا مساوی است، اگر علی ۳۰ سال داشته باشد، رضا چند سال دارد؟

۱۳ یک مهد کودک ۴۰ کودک دارد که در آن در صد تعداد دخترها ۱۰٪ بیشتر از در صد تعداد پسرها است. تعداد دخترها را به دست آورید.

۱۴ یک استخر وقتی ۶۰ درصد آن خالی است، به اندازه ی ۷۲۰ لیتر آب دارد. گنجایش این استخر چه قدر است؟

در این تصویر چه می بینید؟



پیاموز | Biamoz.com

بزرگترین مرجع آموزشی و نمونه سوالات درسی تمامی مقاطع

شامل انواع | نمونه سوالات | فصل به فصل | پایان ترم | جزوه |

ویدئوهای آموزشی | گام به گام | طرح درس | طرح جابر | و ...

اینستاگرام

گروه تلگرام

کانال تلگرام

برای ورود به هر پایه در سایت ما روی اسم آن کلیک کنید

دبستان

اول	دوم	سوم	چهارم	پنجم	ششم
-----	-----	-----	-------	------	-----

متوسطه اول

هفتم	هشتم	نهم
------	------	-----

متوسطه دوم

دهم	یازدهم	دوازدهم
-----	--------	---------