


چند درصد از شکل های زیر  است؟



۱

۲۵ درصد دانش آموزان یک دبستان در کلاس پنجم درس می خوانند. اگر تعداد این دانش آموزان ۷۵ نفر باشند، کل دانش آموزان این دبستان چند نفر هستند.

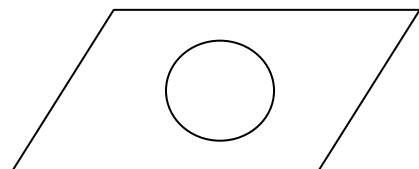
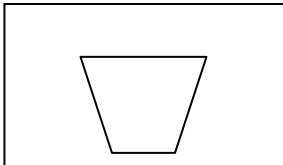
۲

۳ دو چرخه ای را با ۲۰٪ تخفیف به قیمت ۷۲۰۰۰ تومان خریده ایم. قیمت اصلی آن چند تومان بوده است؟

۳

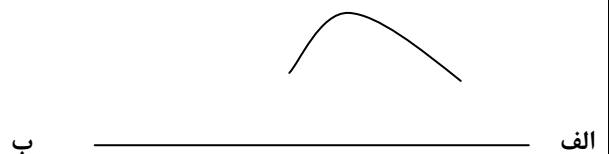
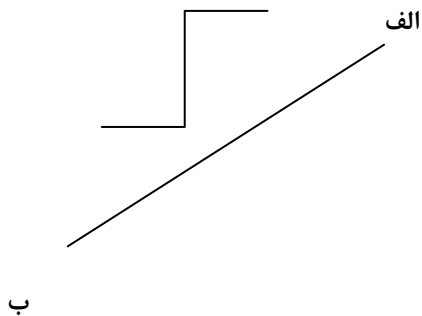
۴ هریک از شکل های زیر چند خط تقارن دارد؟ در صورت امکان، آن را رسم کنید.

۴



۵ قرینه ی شکل های زیر را نسبت به خط (الف ب) رسم کنید.

۵



پیاموز | Biamoz.com

بزرگترین مرجع آموزشی و نمونه سوالات درسی تمامی مقاطع

شامل انواع | نمونه سوالات | فصل به فصل | پایان ترم | جزوه |

ویدئوهای آموزشی | گام به گام | طرح درس | طرح جابر | و ...

اینستاگرام

گروه تلگرام

کانال تلگرام

برای ورود به هر پایه در سایت ما روی اسم آن کلیک کنید

دبستان

اول	دوم	سوم	چهارم	پنجم	ششم
-----	-----	-----	-------	------	-----

متوسطه اول

هفتم	هشتم	نهم
------	------	-----

متوسطه دوم

دهم	یازدهم	دوازدهم
-----	--------	---------