

به نام خدا

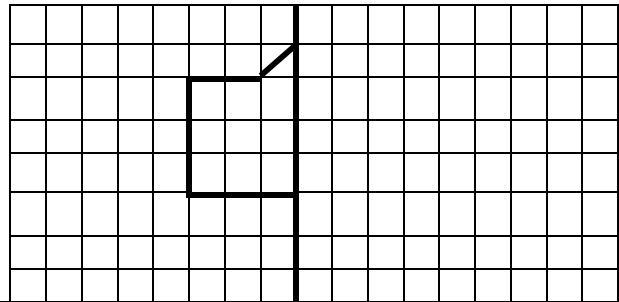
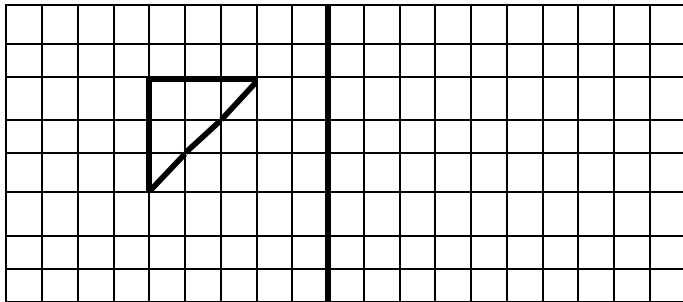
دبستان

آزمون ریاضی پایه ی پنجم (فصل های ۴ و ۵)

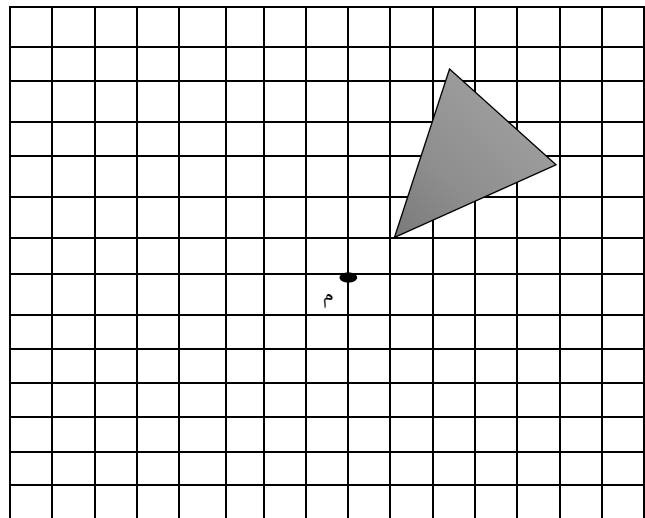
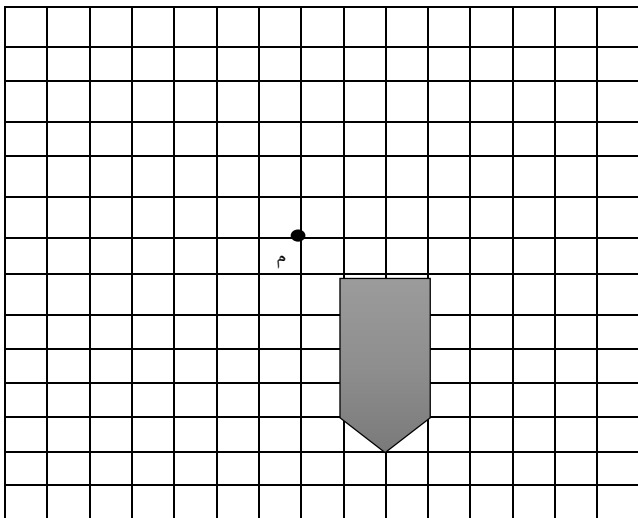
تاریخ :

نام و نام خانوادگی : شماره دانش آموز :

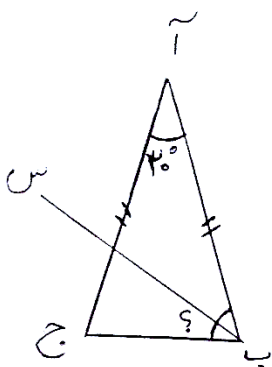
۱ قرینه ی شکل های زیر را نسبت به خط تقارن مشخص کنید ؟



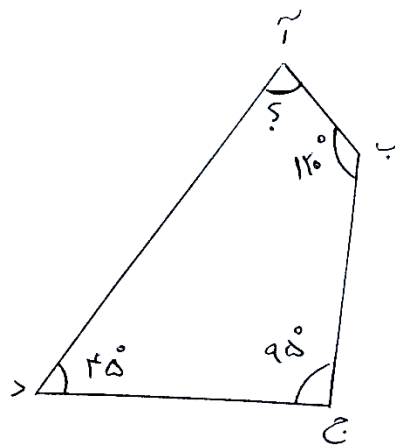
۲ قرینه ی شکل های زیر را نسبت به نقطه (م) پیدا کنید ؟



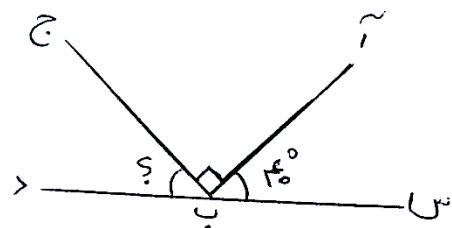
۳ در شکل های ، زیر اندازه ی زاویه ی خواسته شده را بدست آورید ؟



اگر (ب س) نیمساز باشد
زاویه (س ب ج)



زاویه (آ)



زاویه (ج ب د)

۴ جدول زیر را کامل کنید ؟

هشت و سه دهم	۳/۰۰۵	ده و پنج صدم	۱۶/۲۵

به حروف و عدد بنویسید

۵	اعداد اعشاری زیر را در جدول ارزش مکانی قرار دهید؟																											
<table border="1"> <tr> <td>صدگان</td> <td>دهگان</td> <td>یکان</td> <td>دهم</td> <td>صدم</td> <td>هزارم</td> <td></td> </tr> <tr> <td></td> <td></td> <td></td> <td></td> <td></td> <td></td> <td>۱۳/۰۰۲</td> </tr> <tr> <td></td> <td></td> <td></td> <td></td> <td></td> <td></td> <td>۱۳/۲۰۰</td> </tr> <tr> <td></td> <td></td> <td></td> <td></td> <td></td> <td></td> <td>۸/۱۰۲</td> </tr> </table>	صدگان	دهگان	یکان	دهم	صدم	هزارم								۱۳/۰۰۲							۱۳/۲۰۰							۸/۱۰۲
صدگان	دهگان	یکان	دهم	صدم	هزارم																							
						۱۳/۰۰۲																						
						۱۳/۲۰۰																						
						۸/۱۰۲																						
۶	الف) از بین اعداد روبرو کدام عدد بزرگ تر است؟ چرا؟ ب) در عدد ۱۳/۲۰۰ رقم مرتبه ی هزارم چه عددی است؟																											
<p>عدد (۳ / ۳) را روی شکل نشان بده؟</p> <div style="display: flex; justify-content: space-around;"> <div style="border: 1px solid black; width: 100px; height: 100px;"></div> <div style="border: 1px solid black; width: 100px; height: 100px;"></div> <div style="border: 1px solid black; width: 100px; height: 100px;"></div> </div>																												
۷	تبدیل کنید؟																											
<table border="1"> <tr> <td>به عدد اعشاری تبدیل کنید.</td> <td>به کسر و عدد مخلوط تبدیل کنید.</td> </tr> <tr> <td>$۱۰ \frac{۵}{۱۰۰} =$</td> <td>$۱۶/۲۳۰ =$</td> </tr> <tr> <td>$۵ \frac{۲۳}{۱۰۰} =$</td> <td>$۰/۵۰۱ =$</td> </tr> <tr> <td>$۶ \frac{۹}{۱۰} =$</td> <td>$۱۲/۱ =$</td> </tr> </table>	به عدد اعشاری تبدیل کنید.	به کسر و عدد مخلوط تبدیل کنید.	$۱۰ \frac{۵}{۱۰۰} =$	$۱۶/۲۳۰ =$	$۵ \frac{۲۳}{۱۰۰} =$	$۰/۵۰۱ =$	$۶ \frac{۹}{۱۰} =$	$۱۲/۱ =$																				
به عدد اعشاری تبدیل کنید.	به کسر و عدد مخلوط تبدیل کنید.																											
$۱۰ \frac{۵}{۱۰۰} =$	$۱۶/۲۳۰ =$																											
$۵ \frac{۲۳}{۱۰۰} =$	$۰/۵۰۱ =$																											
$۶ \frac{۹}{۱۰} =$	$۱۲/۱ =$																											
۸	حاصل عبارات زیر را به دست بیاورید؟																											
<table style="width: 100%; text-align: center;"> <tr> <td>$۱۳/۰۸$</td> <td>$۱۲/۵$</td> <td>$۸/۳۰۰$</td> <td>$۱۹/۰۲۸$</td> <td>$۱۰/۱۲۵$</td> <td>$۱۵/۰۰۲$</td> </tr> <tr> <td>$\times ۱/۱۲$</td> <td>$\times ۰/۰۸$</td> <td>$- ۰/۹$</td> <td>$- ۱۲/۳۰۰$</td> <td>$+ ۹/۱۶$</td> <td>$+ ۱۰/۱۲۵$</td> </tr> </table>	$۱۳/۰۸$	$۱۲/۵$	$۸/۳۰۰$	$۱۹/۰۲۸$	$۱۰/۱۲۵$	$۱۵/۰۰۲$	$\times ۱/۱۲$	$\times ۰/۰۸$	$- ۰/۹$	$- ۱۲/۳۰۰$	$+ ۹/۱۶$	$+ ۱۰/۱۲۵$																
$۱۳/۰۸$	$۱۲/۵$	$۸/۳۰۰$	$۱۹/۰۲۸$	$۱۰/۱۲۵$	$۱۵/۰۰۲$																							
$\times ۱/۱۲$	$\times ۰/۰۸$	$- ۰/۹$	$- ۱۲/۳۰۰$	$+ ۹/۱۶$	$+ ۱۰/۱۲۵$																							
۹	در یک کارخانه ی تولید خودرو ، ۴۵۰ خودرو ساخته شده است . اگر برای تولید هر خودرو ۹۰۰/۲۳ کیلوگرم ورقه ی فلزی استفاده شده باشد . برای تولید ۴۵۰ خودرو چقدر ورقه ی فلزی مصرف شده است ؟																											
بازخورد آموزگار :																												

پیاموز | Biamoz.com

بزرگترین مرجع آموزشی و نمونه سوالات درسی تمامی مقاطع

شامل انواع | نمونه سوالات | فصل به فصل | پایان ترم | جزوه |

ویدئوهای آموزشی | گام به گام | طرح درس | طرح جابر | و ...

اینستاگرام

گروه تلگرام

کانال تلگرام

برای ورود به هر پایه در سایت ما روی اسم آن کلیک کنید

دبستان

اول	دوم	سوم	چهارم	پنجم	ششم
-----	-----	-----	-------	------	-----

متوسطه اول

هفتم	هشتم	نهم
------	------	-----

متوسطه دوم

دهم	یازدهم	دوازدهم
-----	--------	---------