



نام:

نام خانوادگی:

پایه: پنجم

درس: ریاضی

نوع آزمون:

زمان آزمون: ۵۵ دقیقه

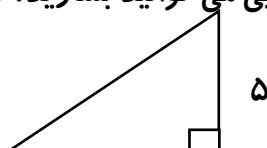
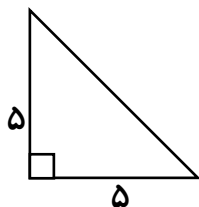
استان:

شهرستان:

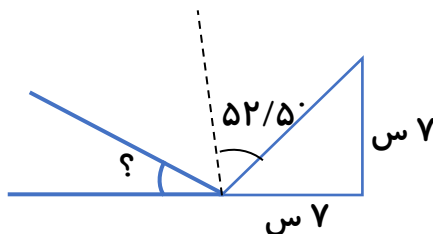
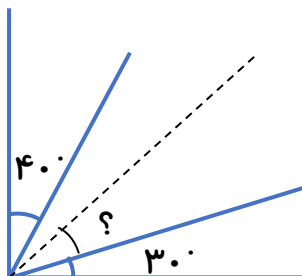
آموزشگاه:

الف) پاسخ مناسب را با علامت (✓) مشخص کنید.	درست	نادرست
۱ تا ۶ / ۱ سانتی متر برابر با ۰/۶ سانتی متر است.	<input type="radio"/>	<input type="radio"/>
در همه ی چهار ضلعی ها، قطر ها بر یکدیگر عمود هستند.	<input type="radio"/>	<input type="radio"/>
اندازه هر یک از زاویه های یک مثلث متساوی الاضلاع برابر با ۶۰ درجه است.	<input type="radio"/>	<input type="radio"/>
به جای اینکه ۰/۳ شکلی را رنگ کنیم می توانیم ۰/۰۳ آن شکل را رنگ بزنیم.	<input type="radio"/>	<input type="radio"/>
ب) گزینه ی مناسب را انتخاب کنید.		
۵ در کدامیک از چهار ضلعی های زیر قطر ها بر همدیگر عمود هستند؟ مستطیل <input type="checkbox"/> دوزنقه <input type="checkbox"/> لوزی <input type="checkbox"/> متوازی الاضلاع <input type="checkbox"/>		
۶ کدامیک از گزینه های زیر اندازه های زاویه های داخلی یک مثلث نمی تواند باشد؟ <input type="checkbox"/> ۹۰°، ۴۵°، ۴۵° <input type="checkbox"/> ۹۰°، ۶۰°، ۳۰° <input type="checkbox"/> ۳۰°، ۴۰°، ۱۲۰° <input type="checkbox"/> ۸۰°، ۵۵°، ۳۵°		
۷ مجموع زاویای داخلی کدام چهار ضلعی ها برابر با ۳۶۰ درجه است؟ مربع، مستطیل، لوزی <input type="checkbox"/> مستطیل، لوزی، دوزنقه <input type="checkbox"/>		
۸ متوازی الاضلاع، مربع، مستطیل <input type="checkbox"/> همه چهار ضلعی ها <input type="checkbox"/>		
گسترده ی عدد اعشاری، «۴/۰۷۵» در کدام گزینه آمده است؟ <input type="checkbox"/> ۴+ ۰/۰۷+ ۰/۰۰۵ <input type="checkbox"/> ۴+ ۰/۷+ ۰/۰۰۵ <input type="checkbox"/> ۴+ ۰/۰۷+ ۰/۰۰۵ <input type="checkbox"/> ۴+ ۰/۷+ ۰/۰۰۵		
پ) جاهای خالی را با اعداد یا عبارات مناسب پُر کنید.		
۹ به هر چهار ضلعی که فقط دو ضلع موازی داشته باشد، می گوئیم.		
۱۰ عدد ۶/۴ سانتی متر برابر است با سانتی متر و میلی متر.		
۱۱ به نیم خطی که زاویه را به دو قسمت مساوی تقسیم می کند، می گوئیم.		
۱۲ در یک عدد اعشاری دومین رقمی که در سمت راست ممیز است در مرتبه ی قرار دارد.		

ت) فعالیت های خواسته شده را انجام دهید و مسئله ها را حل کنید.
با دو مثلث مقابل چه شکلی می توانید بسازید؟ دو شکل رسم کنید.



اندازه ی زاویه های خواسته شده در هر شکل را حساب کنید. (نیم خط سیاه رنگ نیسماز می باشد)



مقایسه کنید و علامت $< = >$ بگذارید.

- $3/14$ $6/95$ 1 $0/999$ $0/3$ $0/03$
 $4/7$ $4/70$ $12/18$ $12/0999$ $4/5$ $5/4$

جدول زیر را کامل کرده و اعداد اعشاری را به رقم و به حروف بنویسید.

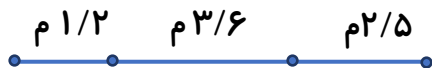
به رقم	به حروف	به رقم	به حروف
.....
.....
.....

دو شباهت و دو اختلاف مستطیل و لوزی را بنویسید.

- شباهت: ۱-
 ۲-
 اختلاف: ۱-
 ۲-

دو عدد اعشاری زیر را به عدد مخلوط تبدیل کرده و سپس با هم جمع کنید.

$$2/75 + 4/6 =$$



طول بزرگترین پاره خط چند متر است؟

قد شهاب $1/25$ متر بوده و شایان 35 سانتی متر از او بلندتر است. قد شایان چند متر است؟

نیاز به تلاش بیشتر

قابل قبول

خوب

خیلی خوب

پیاموز | Biamoz.com

بزرگترین مرجع آموزشی و نمونه سوالات درسی تمامی مقاطع

شامل انواع | نمونه سوالات | فصل به فصل | پایان ترم | جزوه |

ویدئوهای آموزشی | گام به گام | طرح درس | طرح جابر | و ...

اینستاگرام

گروه تلگرام

کانال تلگرام

برای ورود به هر پایه در سایت ما روی اسم آن کلیک کنید

دبستان

اول	دوم	سوم	چهارم	پنجم	ششم
-----	-----	-----	-------	------	-----

متوسطه اول

هفتم	هشتم	نهم
------	------	-----

متوسطه دوم

دهم	یازدهم	دوازدهم
-----	--------	---------