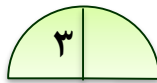
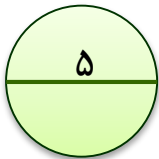


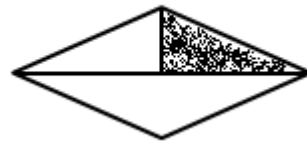
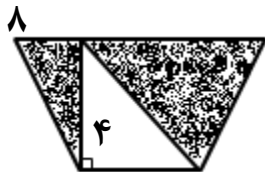
۱- دانش آموزان یک کلاس تصمیم گرفته اند که در جشن عید مبعث از دوستانشان با شربت پذیرایی کنند. اگر گنجایش یک لیوان ۲۰۰ سی سی باشد و تعداد دانش آموزان کلاس ۲۵ نفر باشد، برای تهیه ی شربت، به یک ظرف چند لیتری نیاز است؟

۲- طول و عرض و ارتفاع کتابی، به ترتیب ۲۵ و ۲۰ و ۱ سانتی متر است. حجم این کتاب چه قدر است؟

۳- محیط دایره های زیر را بدست آورید.



۴- مساحت قسمت های رنگی هر یک از شکل های زیر را بدست آورید.

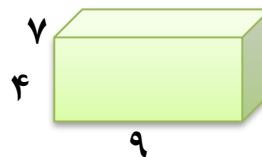
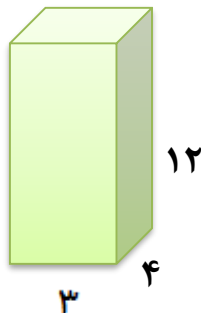


قطر بزرگ: ۱۰

قطر کوچک: ۴

۶

۵- حجم هر یک از شکل های زیر را بدست آورید.



۶- حجم مکعب مستطیلی ۱۲۰ سانتی متر مکعب است. اگر طول و عرض آن ۸ و ۵ سانتی متر باشد، ارتفاع آن چند سانتی متر است؟

۷- از گوشه‌ی مکعبی به اندازه‌های ۷ و ۸ و ۵ سانتی متر، مکعب کوچک‌تری به اندازه‌های ۳ و ۲ و ۱ سانتی متر جدا می‌کنیم. چند سانتی متر مکعب از حجم آن باقی می‌ماند؟

۸- جاهای خالی را با پاسخ مناسب پر کنید.

الف) ۴۵ لیتر برابر است با سی سی

ب) ۲۴۵۳ لیتر برابر است با سی سی

ج) ۷۳۲۱ سی سی برابر است با لیتر

د) ۳۴ سی سی برابر است با لیتر

۲۴- ۹ لیتر شربت را بین ۱۲ نفر تقسیم کردیم. به هر یک از آن‌ها چند سی سی شربت می‌رسد؟

۱۰- برای هر یک از ۱۵۰ مهمان، یک مراسم ۳۰۰ میلی لیتر آب در نظر گرفته شده است. چند بطری ۱ لیتری باید خریداری شود؟

پیاموز | Biamoz.com

بزرگترین مرجع آموزشی و نمونه سوالات درسی تمامی مقاطع

شامل انواع | نمونه سوالات | فصل به فصل | پایان ترم | جزوه |

ویدئوهای آموزشی | گام به گام | طرح درس | طرح جابر | و ...

اینستاگرام

گروه تلگرام

کانال تلگرام

برای ورود به هر پایه در سایت ما روی اسم آن کلیک کنید

دبستان

اول	دوم	سوم	چهارم	پنجم	ششم
-----	-----	-----	-------	------	-----

متوسطه اول

هفتم	هشتم	نهم
------	------	-----

متوسطه دوم

دهم	یازدهم	دوازدهم
-----	--------	---------