


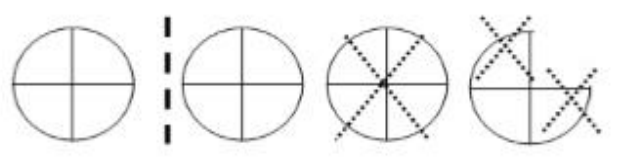



<p>۱ عدد بیست و سه میلیارد و چهارده میلیون و هفتصد و بیست و پنج هزار را با رقم بنویس</p> <p>الف) این عدد چند رقمی است؟</p> <p>ب) دهگان میلیون این عدد چند است؟</p> <p>ج) این عدد را با تقریب صد هزار بنویس</p> 	<p>۲ الگوی های زیر را ادامه دهید.</p> <p>..... - - ۲۰' : ۷ - - ۷ : ۰۰' -</p> <p>..... - - - ۳۳۰۰۰۰۰ - ۳۲۰۰۰۰۰</p>
<p>۳ کسرهای زیر را به عدد مخلوط تبدیل کنید.</p> $\frac{۱۲۵}{۶} =$ $\frac{۲۷}{۸} =$	<p>۴ یک نسبت مساوی $\frac{۱۵}{۴۵}$ بنویسید که مخرج آن ۹ باشد.</p>
<p>۵ جمع و تفریق زیر را انجام دهید.</p> $۲\frac{۳}{۵} + ۱\frac{۱}{۱۵} =$ $۷\frac{۳}{۶} - ۴\frac{۲}{۷} =$	<p>۶ زینب ۷۳۰۰ تومان پول داشت با $\frac{۳}{۵}$ آن یک کتاب کار ریاضی خرید.</p> <p>الف) پول کتاب چقدر شده؟</p> <p>ب) چند تومان برایش باقی مانده است؟</p> 
<p>۷ اعداد مخلوط را به صورت کسر بزرگ تراز واحد بنویس .</p> $۱۰\frac{۲}{۵} =$ $۵\frac{۳}{۷} =$	<p>۸ $۲\frac{۴}{۵}$ را روی محور نشان بده .</p> 

۹	جمع و تفریق های زیر را انجام دهید.
$\begin{array}{r} 35 \\ 37 \\ 6 \\ - 4 \\ \hline \end{array}$	$\begin{array}{r} 12 \\ 25 \\ 4 \\ + 3 \\ \hline \end{array}$
۱۰	سارا هر روز ساعت ۷:۲۵ از منزل خارج می شود و ساعت ۲:۴۵ بعد از ظهر به خانه برمی گردد. او هر روز چند ساعت بیرون از خانه است؟
۱۱	حاصل ضرب های زیر را به دست آورید.
$5 \times \frac{2}{3} =$	$2 \frac{2}{8} \times 1 \frac{4}{5} =$
۱۲	۱۵ متر پارچه داریم. اگر برای دوختن هرمانتو $2\frac{1}{4}$ متر پارچه لازم باشد، چندمانتو می توان دوخت؟
۱۳	برای شکل زیر یک تفریق کسری بنویس.
	
۱۴	کسرهای زیر را به روش دلخواه ساده کنید.
$\frac{60}{80} =$	$\frac{3}{8} \times \frac{2}{5} =$
۱۵	نادر ۱۸ کیلوگرم و امیر $5\frac{2}{3}$ کیلوگرم وزن دارند. اختلاف وزن آن دو چند کیلوگرم است؟
	
۱۶	تقسیم های زیر را انجام دهید.
$\frac{1}{3} \div 4 =$	$13 \div \frac{1}{2} =$

<input type="checkbox"/> نیاز به تلاش بیشتر	<input type="checkbox"/> قابل قبول	<input type="checkbox"/> خوب	<input type="checkbox"/> خیلی خوب
نظر آموزگار از امتحان دانش آموز:			

پیاموز | Biamoz.com

بزرگترین مرجع آموزشی و نمونه سوالات درسی تمامی مقاطع

شامل انواع | نمونه سوالات | فصل به فصل | پایان ترم | جزوه |

ویدئوهای آموزشی | گام به گام | طرح درس | طرح جابر | و ...

اینستاگرام

گروه تلگرام

کانال تلگرام

برای ورود به هر پایه در سایت ما روی اسم آن کلیک کنید

دبستان

اول	دوم	سوم	چهارم	پنجم	ششم
-----	-----	-----	-------	------	-----

متوسطه اول

هفتم	هشتم	نهم
------	------	-----

متوسطه دوم

دهم	یازدهم	دوازدهم
-----	--------	---------