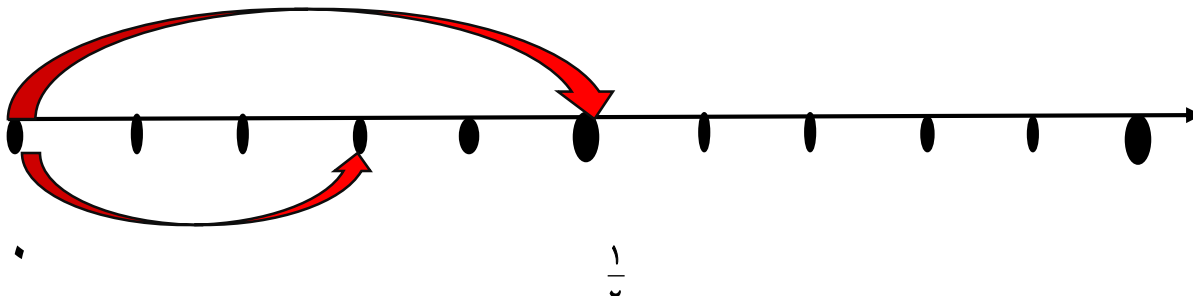

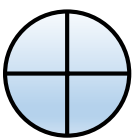
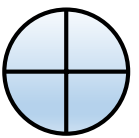
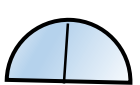



نام و نام خانوادگی: آزمون ریاضی کلاس پنجم
بخش عددنویسی و کسرها

۱	<p>کدام گزینه نشان دهنده ی ۱۰۰ تا ۲۰۰۰ تا است؟</p> <p>الف) ۲۰۰۰ <input type="checkbox"/> ب) ۲۰۰۰۰ <input type="checkbox"/> ج) ۲۰۰۰۰۰ <input type="checkbox"/> د) ۲۰۰۰۰۰۰۰ <input type="checkbox"/></p>
۲	<p>دوساعت چندثانیه است؟</p> <p>الف) ۶۰ <input type="checkbox"/> ب) ۱۲۰ <input type="checkbox"/> ج) ۳۶۰۰ <input type="checkbox"/> د) ۷۲۰۰ <input type="checkbox"/></p>
۳	<p>تقسیم $۳ \div ۵$ برابر کدام یک از گزینه های زیر می باشد؟</p> <p>الف) ۵۳ <input type="checkbox"/> ب) $\frac{۳}{۵}$ <input type="checkbox"/> ج) $۱\frac{۲}{۳}$ <input type="checkbox"/> د) ۲ <input type="checkbox"/></p>
۴	<p>برای محور یک ضرب کسری بنویس.</p> 
۵	<p>برای شکل روبه رو یک کسر و یک عدد مخلوط بنویس.</p> <p>کسر =     = عدد مخلوط =</p>
۶	<p>پدر فاطمه می خواهد خانه ای به قیمت یک میلیارد تومان بخرد. اگر ۸۲۰ میلیون تومان پول داشته باشد، چه قدر باید وام بگیرد؟</p>

ضرب مربوط به شکل را بنویس.




۷

الگوهای زیر را ادامه دهید.

۸

..... - - - - - - - - -
 ۳ : ۶ - ۳ : ۲۰ - ۳ : ۳۴ -



خورشید ساعت ۴۵ - ۳۰ ۵ طلوع کرده و ساعت ۴۰ - ۴۴ ۶ بعد از ظهر غروب کرده

۹

است . طول روز چه قدر بوده است ؟

کسرهای زیر را تاجایی که امکان دارد، ساده کنید.

۱۰

$$\frac{24}{36} =$$

$$\frac{450}{900} =$$

کسر ها و اعداد زیر را باهم مقایسه کنید.

۱۱

$$4 \frac{3}{4} \square \frac{19}{4}$$

$$120 \square 200 \square 12 =$$

$$\frac{4}{2} \square 8$$

$$5 \frac{2}{3} \square 5 \frac{3}{4}$$

۱۲ جمع و تفرق کنید .

$$3 \frac{2}{7} + 1 \frac{1}{4} =$$

$$6 - 2 \frac{5}{8} =$$

۱۳ ۶ کیلوگرم شکلات را می خواهیم در بسته های $\frac{1}{3}$ کیلوگرمی تقسیم کنیم . چند بسته درست می شود؟

۱۴ عدد زیر را با تقریب خواسته شده بنویس .

۲۶۹۸۵۱۰۰۰

تقریب یک میلیون

۱۵ مریم در روز ۲۳ مرداد سال ۱۳۸۰ به دنیا آمد ۵ سال بعد روز ۴ آذر ماه صاحب یک برادر شد. آن تاریخ چه روز و چه ماه و چه سالی بوده است؟

۱۶ طول یک مستطیل $\frac{2}{3}$ متر و عرض آن $3\frac{1}{4}$ متر است . مساحت این زمین را حساب کنید.

موفق باشید.

نیاز به تلاش

قابل قبول

خوب

عملکرد دانش آموز خیلی خوب

پیاموز | Biamoz.com

بزرگترین مرجع آموزشی و نمونه سوالات درسی تمامی مقاطع

شامل انواع | نمونه سوالات | فصل به فصل | پایان ترم | جزوه |
ویدئوهای آموزشی | گام به گام | طرح درس | طرح جابر | و ...

اینستاگرام

گروه تلگرام

کانال تلگرام

برای ورود به هر پایه در سایت ما روی اسم آن کلیک کنید

دبستان

اول	دوم	سوم	چهارم	پنجم	ششم
-----	-----	-----	-------	------	-----

متوسطه اول

هفتم	هشتم	نهم
------	------	-----

متوسطه دوم

دهم	یازدهم	دوازدهم
-----	--------	---------