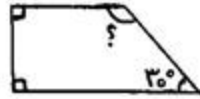
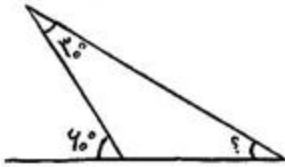


	نام و نام خانوادگی: ..... شماره دانش آموز: ..... کلاس: پنجم آزمون: ریاضی ردیف
۱	الف) عدد پانزده میلیارد و دوست و هشت میلیون و سی هفت هزار و شش را با رقم بنویسید. ب) عدد ۲۷۰۰۵۰۰ از ..... تا یک میلیون و ۷ تا ..... تا ۵ تا ..... ساخته شده است.
۲	جمع و تفریق اعداد مرکب زیر را انجام دهید. $\begin{array}{r} ۶ \\ + ۴ \\ \hline \end{array}$ $\begin{array}{r} ۲۴' \\ + ۳۱' \\ \hline \end{array}$ $\begin{array}{r} ۳۸'' \\ + ۴۱'' \\ \hline \end{array}$ $\begin{array}{r} ۸ \\ - ۲ \\ \hline \end{array}$ $\begin{array}{r} ۲۹' \\ - ۱۸' \\ \hline \end{array}$ $\begin{array}{r} ۳۵'' \\ - ۵۷'' \\ \hline \end{array}$
۳	حاصل عبارت های زیر را به دست آورید. $۲\frac{۲}{۵} + ۱\frac{۲}{۱۰} =$ $۱\frac{۲}{۳} + ۱\frac{۱}{۵} =$ $۷ - ۳\frac{۲}{۴} =$ $۵\frac{۱}{۴} - ۲\frac{۱۰}{۱۲} =$ $۶ \times \frac{۴}{۲۵} =$ $\frac{۳}{۱۲} \times \frac{۴}{۹} =$ $۴\frac{۱}{۵} \times ۲\frac{۱}{۳} =$ $۶ \div \frac{۱}{۹} =$ $\frac{۱}{۶} \div ۲ =$
۴	برای ساختن یک نوع بتن، ۷ پیمانانه ماسه را با ۲ پیمانانه سیمان مخلوط می کنند. در ۱۸۹ پیمانانه از این مخلوط، چند پیمانانه ماسه و چند پیمانانه سیمان وجود دارد؟
۵	۷۰٪ دانش آموزان یک کلاس ۱۴ نفر است. تعداد دانش آموزان این کلاس چند نفر است؟
۶	حاصل جمع و تفریق زیر را به دست آورید. $\begin{array}{r} ۸ / ۲۷ \\ + ۳ / ۹۳۵ \\ \hline \end{array}$ $\begin{array}{r} ۱۲ / ۴ \\ - ۵ / ۲۸ \\ \hline \end{array}$

۷ در شکل های زیر اندازه ی زاویه ی خواسته شده را به دست آورید.



۸ حاصل ضرب های زیر را به دست آورید.

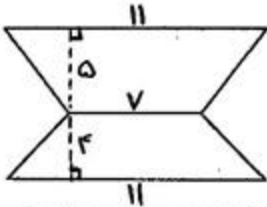
$$. / 3 \times 3 . 0 =$$

$$. / 0 . 4 \times 1 . 0 =$$

$$4 / 1 \times 0 / 8 =$$

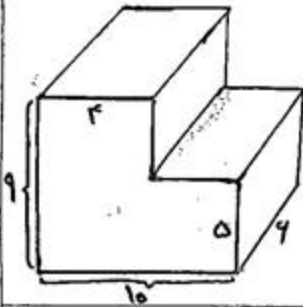
$$. / 3 \times 0 / 0 . 7 =$$

۹ مساحت شکل زیر را به دست آورید.



۱۰ رویا می خواهد دور یک رومیزی که به شکل دایره است، نوار بدوزد. اگر شعاع آن رومیزی  $1/5$  متر باشد، او به چند متر نوار نیاز دارد؟

۱۱ حجم شکل زیر را پیدا کنید. (همه ی اندازه ها بر حسب سانتی متر است.)



۱۲ الف) میانگین اعداد ۱۸، ۱۹، ۲۰ و ۲۷ را به دست آورید.  
ب) در موارد زیر از عبارات مناسب (به احتمال بیشتر، به احتمال کمتر، به احتمال برابر، به طور حتم اتفاق می افتد، به طور حتم اتفاق نمی افتد) استفاده کنید.

۱) احتمال اینکه در پرتاب تاس عدد ۷ بیاید.

۲) احتمال اینکه در پرتاب تاس عدد فرد بیاید.

۳) احتمال اینکه بعد از روز، شب بیاید.

توصیف عملکرد:

خیلی خوب

خوب

قابل قبول

نیاز به تلاش بیشتر

موفق و پیروز باشید.

# پیاموز | Biamoz.com

بزرگترین مرجع آموزشی و نمونه سوالات درسی تمامی مقاطع

شامل انواع | نمونه سوالات | فصل به فصل | پایان ترم | جزوه |

ویدئوهای آموزشی | گام به گام | طرح درس | طرح جابر | و ...

اینستاگرام

گروه تلگرام

کانال تلگرام

برای ورود به هر پایه در سایت ما روی اسم آن کلیک کنید

## دبستان

اول	دوم	سوم	چهارم	پنجم	ششم
-----	-----	-----	-------	------	-----

## متوسطه اول

هفتم	هشتم	نهم
------	------	-----

## متوسطه دوم

دهم	یازدهم	دوازدهم
-----	--------	---------