

نام و نام خانوادگی :

پسمه نهایی

تاریخ آزمون :

مدت امتحان: ۸۰ دقیقه

تعداد صفحه : ۲

تعداد سؤال: ۲۵

کلاس:

آزمون مداد کاغذی درس ریاضی نوبت اول پایه پنجم

نام آموزگار :

درستی یا نادرستی عبارات زیر را مشخص کنید.

ص غ

۱- در عدد ۵۷۳۲۱۴۰ بزرگترین عدد از نظر مرتبه عدد ۷ است.

ص غ

۲- دو ساعت ۱۰۰ دقیقه است.

ص غ

۳- هرکیلوگرم ۱۰۰۰ گرم است.

ص غ

۴- کسر $\frac{15}{5}$ همان $\frac{3}{4}$ است.

ص غ

۵- مجموع زاویه های داخلی مثلث ۱۸۰ درجه است.

ص غ

۶- زاویه ی نیم صفحه ۳۶۰ درجه است.

جاهای خالی را با کلمات مناسب کامل کنید.

۷- ۱۴۰ سانتی متر یعنی متر و سانتی متر.

۸- ۱۳۰۰ گرم برابر است با کیلوگرم و گرم.

۹- خمس عدد ۲۰ می شود

۱۰- $\frac{3}{5}$ ساعت برابر است با دقیقه.

۱۱- زاویه ی نیم صفحه از زاویه ی راست است.

به پرسش های زیر پاسخ کامل بدهید.

۲۵۴۱۷۱۴۱۱۹

۱۲- با توجه به عدد روبرو به پرسش های زیر پاسخ دهید.

الف) عدد را به حروف بنویسید.

ج) رقم های طبقه ی میلیون را بنویسید.

ب) ارزش مکانی رقم ۲ چیست؟

۱۳- مقایسه کنید.

$\frac{1}{5} \times \frac{2}{3} \bigcirc \frac{1}{2} \times \frac{2}{5}$

$3\frac{2}{3} \bigcirc 4\frac{1}{2}$

$7\frac{3}{5} \bigcirc 7\frac{4}{5}$

$555'59'' \bigcirc 555'49''$

..... ، ، ۲۳ ، ۱۷ ، ۱۲ ، ۸

۱۴- الف) الگوی روبرو را ادامه دهید.

..... ، ۱۲ ، ۹ ، ۶ ، ۳

ب) در الگوی مقابل عدد بیستم، چند است؟

۱۵- کسرهای زیر را به عدد مخلوط و عدد مخلوط ها را به کسر تبدیل کنید.

$\frac{8}{3} =$

$\frac{24}{5} =$

$5\frac{2}{3} =$

$7\frac{1}{5} =$

۱۶- جمع و تفریق های زیر را انجام دهید.

$$3\frac{2}{5} + 4\frac{1}{5} =$$

$$7\frac{3}{4} - 2\frac{3}{8} =$$

۱۷- حاصل ضرب و تقسیم های زیر را به دست آورید.

$$5\frac{2}{3} \times 2\frac{1}{4} =$$

$$\frac{1}{7} \div 7 =$$

۱۸- در جاهای خالی عدد مناسب بنویسید.

$$\frac{12}{8} = \frac{\quad}{2}$$

$$\frac{\quad}{28} = \frac{4}{7}$$

$$\frac{50}{100} = \frac{2}{\quad}$$

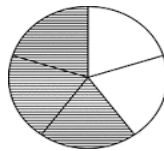
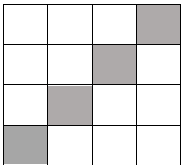
۱۹- امیرحسین هر روز ساعت ۳۰' ۷ از منزل خارج و به سمت مدرسه می رود و ساعت ۴۵' ۱۲ به منزل باز می گردد. او چند ساعت از روز خود را در مدرسه گذرانده است؟

۲۰- اگر ۸ کیلو نمک را در بسته های $\frac{1}{4}$ کیلوگرمی بریزیم، چند بسته نمک خواهیم داشت؟

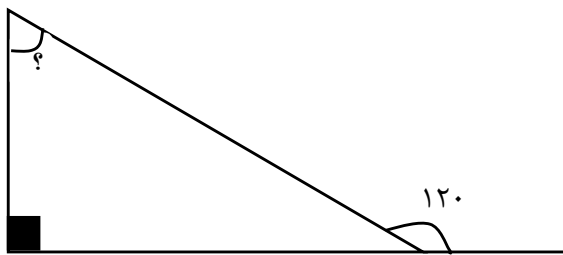
۲۱- اختلاف پول امیر به محمد ۱۵۰۰۰ تومان است. اگر نسبت پول امیر به محمد ۷ به ۴ باشد، پول هر کدام چقدر است؟

۲۲- نسبت سن علی به پدرش ۳ به ۷ است. اگر پدر علی ۳۵ سال داشته باشد، سن علی چقدر است؟

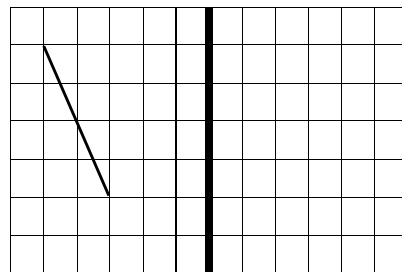
۲۳- چند درصد هریک از شکل های زیر رنگ شده است؟



۲۵- در شکل زیر اندازه ی زاویه ی مشخص شده را پیدا کنید.



۲۴- قرینه ی خط زیر را رسم کنید.



	خ
	خ
	ق
	ن

پازخورد معلم

پیاموز | Biamoz.com

بزرگترین مرجع آموزشی و نمونه سوالات درسی تمامی مقاطع

شامل انواع | نمونه سوالات | فصل به فصل | پایان ترم | جزوه |

ویدئوهای آموزشی | گام به گام | طرح درس | طرح جابر | و ...

اینستاگرام

گروه تلگرام

کانال تلگرام

برای ورود به هر پایه در سایت ما روی اسم آن کلیک کنید

دبستان

اول	دوم	سوم	چهارم	پنجم	ششم
-----	-----	-----	-------	------	-----

متوسطه اول

هفتم	هشتم	نهم
------	------	-----

متوسطه دوم

دهم	یازدهم	دوازدهم
-----	--------	---------