
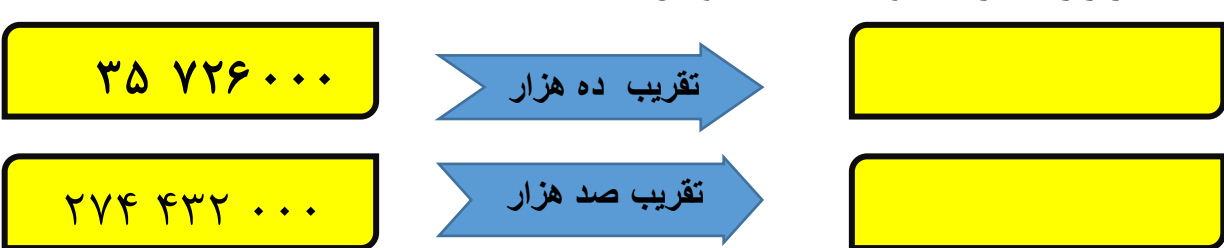
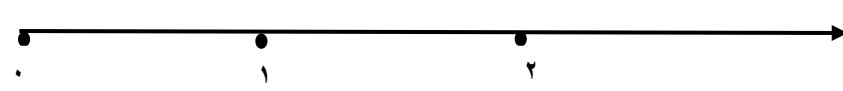


نام و نام خانوادگی : ..... آزمون ریاضی نوبت اول کلاس پنجم

۱	<p>کوچک ترین عدد کدام است ؟</p> <p>الف) ۲ <input type="checkbox"/>      ب) <math>\frac{۳}{۴}</math> <input type="checkbox"/>      ج) <math>\frac{۷}{۳}</math> <input type="checkbox"/>      د) <math>۱\frac{۲}{۳}</math> <input type="checkbox"/></p>
۲	<p>با توجه به شکل به پرسش ها پاسخ دهید.</p> <p>الف) نسبت گل ها به آدمک ها ..... به ..... است .</p> <p>ب) نسبت هواپیما به گل شکل ..... به ..... است .</p> <p>ج) نسبت آدمک ها به هواپیماها ..... به ..... است .</p> 
۳	<p>الگوهای زیر را کامل کن .</p> <p>..... - ..... - ۲:۴۰ - ۲:۲۵ - ۲:۱۰</p> <p>..... - ..... - ۴۵۸ میلیون - ۴۵۵ میلیون - ۴۵۲ میلیون</p>
۴	<p>عدد های زیر را با تقریب خواسته شده ، بنویس .</p> <p>تقریب ده هزار</p> <p>تقریب صد هزار</p> 
۵	<p>کسر <math>\frac{۴}{۳}</math> را روی محور نشان دهید .</p> 
۶	<p>۴ کارگر هر کدام ، <math>\frac{۳}{۵}</math> از دیوارها را نقاشی کرده اند . آن ها چه کسری از دیوارها را نقاشی کرده اند؟</p>
۷	<p>کسرهای زیر را ساده کنید، سپس حاصل آن را به دست آورید.</p> <p><math>\frac{۳ \times ۱۴}{۶ \times ۸} =</math>      <math>\frac{۵ \times ۲۴}{۱۰ \times ۲۰} =</math></p>

$\frac{2}{5}$  یک کتاب ۴۰۰ صفحه ای بیش تر است یا  $\frac{1}{3}$  یک کتاب ۳۰۰ صفحه ای؟ (همراه با راه حل)

کسر را به عدد مخلوط مربوط به آن وصل کنید.

$$\begin{array}{l} 3 \frac{1}{4} \text{ (گل)} \\ 1 \frac{7}{8} \text{ (گل)} \\ 4 \frac{3}{6} \text{ (گل)} \\ 3 \frac{8}{9} \text{ (گل)} \end{array}$$

$$\begin{array}{l} 15 \\ 8 \\ 13 \\ 4 \\ 35 \\ 9 \\ 27 \\ 6 \end{array}$$

حاصل جمع و تفریق های زیر را به دست آورید.

$$\begin{array}{l} 6 \frac{1}{4} - 1 \frac{1}{2} = \\ 7 + 1 \frac{1}{2} = \end{array}$$


نسترن ۴ اسکناس ۱۰۰۰۰ تومانی دارد و می خواهد برای سه نفر از دوستانش کادو بخرد. کدام یک از جنس های زیر را می تواند بخرد؟ چه قدر دیگر باید پول داشته باشد تا بتواند تمام اجناس را بخرد؟



۳۰۰۰۰ تومان



۲۰۰۰۰ تومان



۱۲۰۰۰ تومان



۶۰۰۰ تومان

۱۲ در یک روز بهاری خورشید ساعت ۲۵ ۵۴ ۵ صبح طلوع کرد، اگر طول روز ۱۳ ۲۹ ۱۲ باشد، خورشید در چه ساعتی غروب کرده است؟



۱۳ حاصل ضرب و تقسیم های زیر را بنویسید.

$$\frac{3}{18} \times 2 =$$

$$8 \times \frac{2}{4} =$$


$$\frac{1}{4} \div 2 =$$

$$3 \div \frac{1}{5} =$$

۱۴ در یک پارک نسبت زنان به مردان ۵ به ۶ است. اگر ۹۹ نفر در این پارک باشند، چند نفر آن ها زن و چند نفر آن ها مرد هستند؟

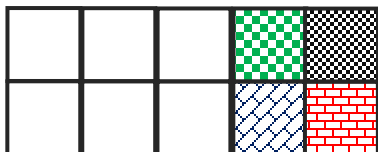


۱۵ مساحت شکل را محاسبه کنید.



۴  
—  
۶  
متر

۱۶ چند درصد از شکل رنگ شده است؟ (باراه حل)



شاد و پیروز باشید.

# پیاموز | Biamoz.com

بزرگترین مرجع آموزشی و نمونه سوالات درسی تمامی مقاطع

شامل انواع | نمونه سوالات | فصل به فصل | پایان ترم | جزوه |

ویدئوهای آموزشی | گام به گام | طرح درس | طرح جابر | و ...

اینستاگرام

گروه تلگرام

کانال تلگرام

برای ورود به هر پایه در سایت ما روی اسم آن کلیک کنید

## دبستان

اول	دوم	سوم	چهارم	پنجم	ششم
-----	-----	-----	-------	------	-----

## متوسطه اول

هفتم	هشتم	نهم
------	------	-----

## متوسطه دوم

دهم	یازدهم	دوازدهم
-----	--------	---------