

مدت زمان آزمون:	ساعت شروع آزمون:	نوع آزمون: مداد کاغذی	سال تحصیلی
۴۵ دقیقه		نام آزمون: ریاضی	
پایه: پنجم	تاریخ آزمون:	نام و نام خانوادگی آموزگار:	نام و نام خانوادگی:

آموختن علم بر هر انسانی واجب است . همانا خداوند علم آموزان را دوست دارد . حضرت رسول اکرم (ص)

۱\_ عدد  $356/48$  را وارد جدول ارزش مکانی کنید و به سوالات پاسخ دهید.

الف) عدد ۳ و ۴ چه ارزش مکانی دارند؟

ب) عدد را به حروف بنویسید.

۲\_ الگوهای زیر را ادامه دهید.

..... و ..... و ..... و  $2/56$  و  $2/58$  و  $2/60$  و .....

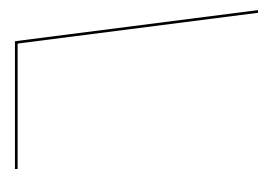
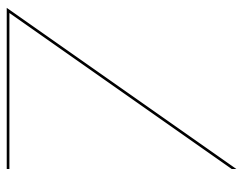
..... و ..... و ..... و  $1:30$  و  $1:27$  و .....

۳- حاصل عبارت های زیر را بدست آورید.


۴- اعداد زیر را ساده کنید.

۵\_ برای خرید کالایی به قیمت ۴۰۰۰۰ تومان با تخفیف ۳۵٪ تخفیف چند تومان باید بپردازیم؟

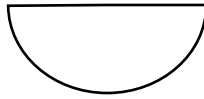
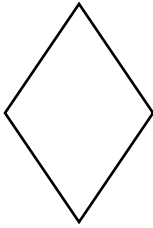
۶\_ در شکل های زیر اندازه زاویه مشخص شده را پیدا کنید .



۷\_ حجم شکل زیر را به دست آورید .



۸\_ محیط و مساحت شکل های زیر را حساب کنید.



۹\_ میانگین اعداد زیر را حساب کنید .

۴/۵ و ۵ و ۱۲ و ۱۸ و ۲۰/۵

۱۰\_ نمودار ستونی ای رسم کنید که تعداد ساعات مطالعه ی هر یک از دانش آموزان را نشان دهد .

نام دانش آموزان	محنا	مهري	زهرا	پريا	سوگند	فاطمه	مليکا
تعداد ساعات مطالعه	۳/۵	۴	۲	۱/۵	۱/۵	۳	۴

# پیاموز | Biamoz.com

بزرگترین مرجع آموزشی و نمونه سوالات درسی تمامی مقاطع

شامل انواع | نمونه سوالات | فصل به فصل | پایان ترم | جزوه |

ویدئوهای آموزشی | گام به گام | طرح درس | طرح جابر | و ...

اینستاگرام

گروه تلگرام

کانال تلگرام

برای ورود به هر پایه در سایت ما روی اسم آن کلیک کنید

## دبستان

اول	دوم	سوم	چهارم	پنجم	ششم
-----	-----	-----	-------	------	-----

## متوسطه اول

هفتم	هشتم	نهم
------	------	-----

## متوسطه دوم

دهم	یازدهم	دوازدهم
-----	--------	---------