

۱- جاهای خالی را پر کنید.

الف- ۱۱۰۰۰

ب- دو - ۷ تا صد هزار تا - ۵ تا صد تا

ج- ۴ میلیون

د- سی و هفت میلیارد و هشتصد و هفت میلیون و نهصد و سه هزار و سه

۲- حاصل جمع و تفریقهای زیر را بدست آورید.

$$7\frac{1}{2} + 2\frac{3}{4} = \frac{15}{2} + \frac{11}{4} = \frac{60}{8} + \frac{22}{8} = \frac{82}{8} = 10\frac{2}{8}$$

$$8\frac{1}{10} - \frac{7}{10} = \frac{81}{10} - \frac{7}{10} = \frac{74}{10} = 7\frac{4}{10}$$

۳- حاصل ضرب و تقسیم های زیر را بدست آورید.

$$\frac{1}{9} \div \frac{2}{3} = \frac{1}{9} \times \frac{3}{2} = \frac{3}{6}$$

$$\frac{12 \times 5}{8 \times 4} = \frac{15}{8} = 1\frac{7}{8}$$

۴- تفریق زیر را انجام دهید.

$$\begin{array}{r} 40 \quad 88 \\ 15 \quad 41' \quad 28'' \\ - \\ 3 \quad 20' \quad 48'' \\ \hline 12 \quad 20 \quad 40 \end{array}$$

۵- کسرهایی زیر را ساده کنید.

$$\frac{36}{24} = \frac{3}{2} \quad \div 12$$

$$\frac{2 \times 4}{3} = \frac{8}{12}$$

۸- کسر را به عدد مخلوط ، و عدد مخلوط را به کسر تبدیل کنید.

$$\frac{9}{7} = 1\frac{2}{7}$$

$$6\frac{3}{5} = \frac{33}{5}$$

۹- سینا ۳ روز و مهدی ۵ روز کار کردند و روی هم ۴۰۰۰۰۰ تومان دستمزد گرفتند. دستمزد هر کدام را به دست آورید.

سینا	۳	۱۵۰۰۰۰
مهدی	۵	۲۵۰۰۰۰
مجموع	۸	۴۰۰۰۰۰

×۵۰۰۰۰

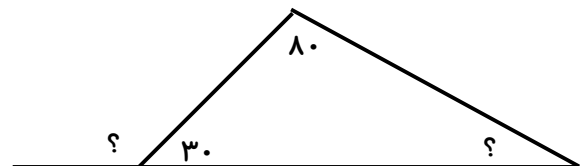
۱۰- ۷۰٪ دانش آموزان یک کلاس ۱۴ نفر است . تعداد دانش آموزان این کلاس چند نفر است ؟

۷۰	۱۴
۱۰۰	۲۰

۲۰ نفر

÷۵

۱۱- اندازه ی زاویه های خواسته شده را بدست آورید.



$$30 + 80 = 110$$

$$180 - 110 = 70$$

$$180 - 30 = 150$$

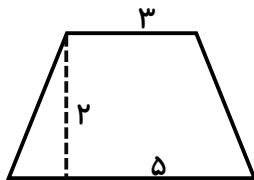
۱۲- حاصل عبارتهای زیر را حساب کنید .

$$۱۲/۴ \times ۳/۵ = ۴۳/۴۰$$

$$۵/۱۲۷ + ۲/۰۶ = ۷/۱۸۷$$

$$۹/۳۲ - ۴/۶ = ۴/۷۲$$

۱۳- مساحت شکل زیر را بدست آورید .



$$(۵ + ۳) \times ۲ = ۱۶$$

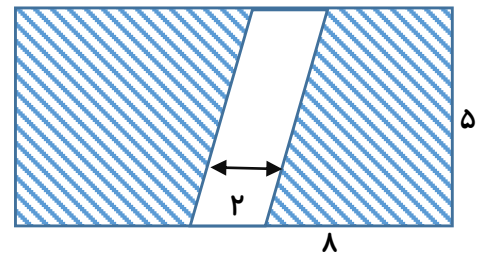
$$۱۶ \div ۲ = ۸$$

۱۴- مساحت قسمت رنگی در شکل زیر را حساب کنید .

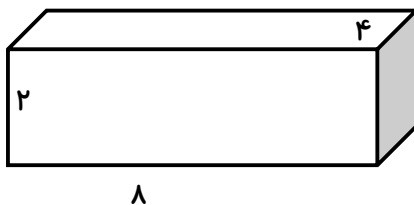
$$۸ \times ۵ = ۴۰$$

$$۲ \times ۵ = ۱۰$$

$$۴۰ - ۱۰ = ۳۰$$



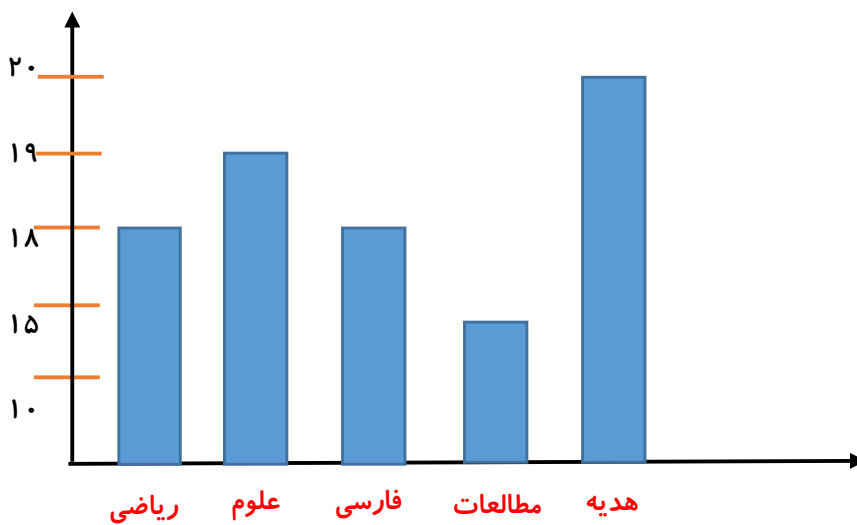
۱۵- حجم شکل زیر را بدست آورید.



$$۸ \times ۴ \times ۲ = ۶۴$$

۱۶- برای جدول داده های زیر نمودار ستونی مناسب رسم کنید.

درس	ریاضی	علوم	فارسی	مطالعات	هدیه
نمره	۱۸	۱۹	۱۸	۱۵	۲۰



۱۷- مهسا برای درمان سرماخوردگی اش باید روزی سه بار و هر بار ۵ سی سی از یک شربت را مصرف کند.

$$۳ \times ۵ = ۱۵$$

الف- بعد از یک هفته او چند سی سی از آن شربت را مصرف کرده است ؟

$$۷ \times ۱۵ = ۱۰۵$$

ب- این مقدار چند لیتر است ؟ $۰/۱۰۵$

پیاموز | Biamoz.com

بزرگترین مرجع آموزشی و نمونه سوالات درسی تمامی مقاطع

شامل انواع | نمونه سوالات | فصل به فصل | پایان ترم | جزوه |

ویدئوهای آموزشی | گام به گام | طرح درس | طرح جابر | و ...

اینستاگرام

گروه تلگرام

کانال تلگرام

برای ورود به هر پایه در سایت ما روی اسم آن کلیک کنید

دبستان

اول	دوم	سوم	چهارم	پنجم	ششم
-----	-----	-----	-------	------	-----

متوسطه اول

هفتم	هشتم	نهم
------	------	-----

متوسطه دوم

دهم	یازدهم	دوازدهم
-----	--------	---------