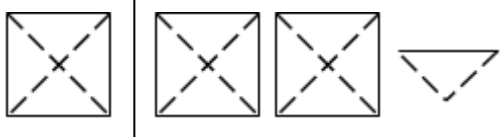

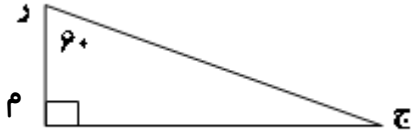



سؤالات امتحان درس: ریاضی	دوره: ابتدایی پایه: پنجم	ساعت شروع: دقیقه	مدت امتحان: دقیقه
نام و نام خانوادگی:	نام پدر:	تاریخ امتحان:	صفحه: ۱
نام مدرسه:	شعبه:	مهر مدرسه:	

ردیف	این آزمون مشتمل بر ۱۵ سؤال و در ۲ صفحه می باشد.
	شرح سؤالات
۱-	عدد ۷۷۹۰۴۵۶ را با حروف بنویسید. رقم دهگان هزار در این عدد ، کدام عدد است؟
۲-	با توجه به واحد سمت چپ، برای شکل یک عدد مخلوط و یک کسر بزرگ تر از واحد بنویسید.  عدد مخلوط = کسر بزرگ تر از واحد =
۳-	کدام یک از شکل های زیر خط تقارن ندارد؟ <input type="checkbox"/> مربع <input type="checkbox"/> مستطیل <input type="checkbox"/> متوازی الاضلاع <input type="checkbox"/> لوزی
۴-	دو پنجم ۱۰ تا برابر است با تا. (روی شکل نشان دهید). 
۵-	واحد اندازه گیری زاویه نام دارد که اندازه ی آن زاویه ی قائمه است.
۶-	کسرهای زیر تا جایی که امکان دارد ساده کنید. $\frac{۲۴}{۴۲} =$ $\frac{۹۶}{۱۶} =$ $\frac{۲۵}{۱۰۰} =$
۷-	با توجه به شکل ، اندازه ی زاویه ی ج را حساب کنید. (با راه حل) 
۸-	در جای خالی علامت < = > بگذارید. $\frac{۲}{۵} \square \frac{۲}{۶}$ $۱ \square \frac{۳}{۴}$ $\frac{۱}{۵} \square \frac{۰}{۲}$ $\frac{۶}{۱۰} \square \frac{۳}{۵}$
	« ادامه ی سؤالات در صفحه ی دوم »

بسمه تعالی

سؤالات امتحان درس: ریاضی	دوره: ابتدایی پایه: پنجم	ساعت شروع: دقیقه	مدت امتحان: دقیقه
نام و نام خانوادگی:	نام پدر:	تاریخ امتحان:	صفحه: ۲
نام مدرسه:	شعبه:	مهر مدرسه:	

ردیف	این آزمون مشتمل بر ۱۵ سؤال و در ۲ صفحه می باشد.
	شرح سؤالات
۹-	کسر مساوی با هر یک از عددهای اعشاری زیر را بنویسید. $0/6 =$ $4/275 =$ $0/23 =$
۱۰-	در هر یک از عبارت های زیر در جای خالی عدد مناسب بنویسید. یکان اعدادی که هم بر ۲ و هم بر ۵ بخش پذیرند است. $0/005$ کیلوگرم ، یعنی گرم. 80 سانتیمتر ، یعنی متر.
۱۱-	حجم منبع آبی که طول و عرض و ارتفاع آن به ترتیب ۵ ، ۴ و ۳ متر است چند متر مکعب است؟
۱۲-	نسبت وزن مریم به مادرش مثل ۲ به ۷ است. اگر هر دو روی هم ۶۳ کیلوگرم وزن داشته باشند ، وزن هر یک چند کیلوگرم است؟
۱۳-	عملیات زیر را انجام دهید. $7 - 2/15 =$ $7/25 \times 3/2 =$ $16/7 \div 8/7 =$ $3 \frac{6}{8} - \frac{8}{3} =$
۱۴-	مساحت شکل زیر را حساب کنید. 
۱۵-	کتابی ۵۰ صفحه دارد. علی ۲۰ صفحه از آن را خوانده است. حساب کنید علی چند درصد کتابش را خوانده است؟

نیاز به تلاش بیشتر

قابل قبول

خوب

خیلی خوب

تاریخ و امضاء

پیاموز | Biamoz.com

بزرگترین مرجع آموزشی و نمونه سوالات درسی تمامی مقاطع

شامل انواع | نمونه سوالات | فصل به فصل | پایان ترم | جزوه |

ویدئوهای آموزشی | گام به گام | طرح درس | طرح جابر | و ...

اینستاگرام

گروه تلگرام

کانال تلگرام

برای ورود به هر پایه در سایت ما روی اسم آن کلیک کنید

دبستان

اول	دوم	سوم	چهارم	پنجم	ششم
-----	-----	-----	-------	------	-----

متوسطه اول

هفتم	هشتم	نهم
------	------	-----

متوسطه دوم

دهم	یازدهم	دوازدهم
-----	--------	---------