

به نام خداوند جان آفرین

تاریخ: /.../....

آموزش و پرورش

نام و نام خانوادگی:.....

آزمون مطالعات اجتماعی (درس ۱ تا ۹)

«سوالات چهارگزینه ای»

الف

- ۱) مهم ترین علت نیاز انسان به دوستی کدام است؟
 (۱) نیاز به هم صحبتی (۲) نیاز به هم نشینی (۳) نیاز به محبت (۴) نیاز به برقراری ارتباط
- ۲) مهدی در حال مطالعه ی کتاب، پرس جو و صحبت با افراد مختلف است تا بتواند برای شغل آینده اش تصمیم گیری کند. اکنون مهدی در کدام مرحله از تصمیم گیری قرار دارد؟
 (۱) مرحله اول (۲) مرحله دوم (۳) مرحله سوم (۴) مرحله ی چهارم
- ۳) مجموع متوسط بارندگی سالانه ی ایران و متوسط بارندگی جهانی ، کدام است؟
 (۱) ۱۰۴۰ میلی متر (۲) ۱۱۴۰ میلی متر (۳) ۱۰۶۰ میلی متر (۴) ۱۶۰ میلی متر
- ۴) مجموع درصد مصرف برق حرارتی و برق آبی در کشور ، کدام است؟
 (۱) ۹۶٪ (۲) ۹۹٪ (۳) ۹۸٪ (۴) ۹۷٪
- ۵) می گویند فلانی در نیمه ی قرن متولد شده است. یعنی سال تولد او می تواند باشد.
 (۱) اول - دوازدهم - ۱۲۶۳ (۲) دوم - نهم - ۸۹۶
 (۳) اول - یازدهم - ۱۲۱۲ (۴) دوم - دهم - ۹۳۶

سوالات تکمیلی»

ب

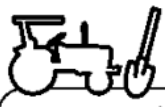
- ۱) هر بشکه نفت معادل لیتر است. (۲۰۰ - ۱۵۹ - ۱۹۵)
- ۲) بیشتر منابع نفتی در غرب در استان واقع است. (ایلام - کردستان - کرمانشاه)
- ۳) کتاب معروف در باره ی نقش غذا در سلامت و درمان بیماری ها، تا مدتها از کتب مهم در پزشکی بود. (رازی - ابن سینا)
- ۴) به استفاده از فکر و اندیشه ی دیگران در کارها می گویند. (مشورت - ایثار)
- ۵) گیاه سیب زمینی در مناطق کشت و پرورش می یابد. (سرسبزی - معتدل و مرطوب)

«سوالات تشریحی»

ج

۱) از عوامل مهم در کشاورزی، عوامل انسانی هستند. با توجه به این مطلب، درباره ی هر بند زیر، توضیح دهید.

عوامل انسانی




ابزار و وسایل

.....

.....

.....




نیروی کار

.....

.....

.....




مواد

.....

.....

.....



سرمایه

.....

.....

.....

۲) منظور از زراعت و باغداری چیست؟ با ذکر مثال توضیح دهید.

۳) منابع مهم گاز ایران در جنوب و شمال شرقی را نام ببرید.

الف) منابع گازی جنوب:

ب) منابع گازی شمال شرقی:

۴) از مزایا و معایب انرژی های نو، هر کدام دو مورد را بیان کنید.

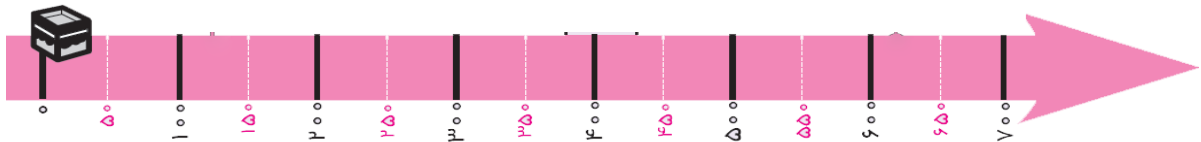
مزایای انرژی های نو	معایب انرژی های نو

۵) هر نیم کیلوگرم اورانیوم، انرژی ای معادل سوختن چند لیتر نفت ایجاد می کند؟

۶) با توجه به تولید خودرو و افزایش استفاده از سوخت های فسیلی، اگر ده ساله ی اول ۱۰۰ میلیون لیتر بنزین مصرف شود، ۲۰ سال پس از ده ساله ی اول، چند میلیون لیتر بنزین در کشور مصرف خواهد شد؟

۷) پنج مورد از اختراعات مهندس اسماعیل جزری را نام ببرید.

۸) با توجه به نوار زمانی زیر، مکان تقریبی هر یک از وقایع نام برده شده را مشخص کنید.



الف) ابن سینا در نیمه ی دوم قرن چهارم متولد شد.

ب) خیام در نیمه ی اول قرن ششم از دنیا رفت.

۹) مهم ترین علت شکوفایی علوم و فنون در دوره ی شکوفایی اسلامی، کدام است؟

۱۰) اگر شبانه روز را به جای ۲۴ ساعت، ۴۸ ساعت فرض کنیم، ساعت پیک یا اوج بار چه ساعتی خواهد بود؟

*سوال امتیازی

پسته در چند استان کشور، کشت می شود؟

پیاموز | Biamoz.com

بزرگترین مرجع آموزشی و نمونه سوالات درسی تمامی مقاطع

شامل انواع | نمونه سوالات | فصل به فصل | پایان ترم | جزوه |

ویدئوهای آموزشی | گام به گام | طرح درس | طرح جابر | و ...

اینستاگرام

گروه تلگرام

کانال تلگرام

برای ورود به هر پایه در سایت ما روی اسم آن کلیک کنید

دبستان

اول	دوم	سوم	چهارم	پنجم	ششم
-----	-----	-----	-------	------	-----

متوسطه اول

هفتم	هشتم	نهم
------	------	-----

متوسطه دوم

دهم	یازدهم	دوازدهم
-----	--------	---------