

نام و نام خانوادگی:

الف) پاسخ صحیح را با علامت (x) مشخص نمایید.

۱- تصمیم‌گیری مسئله‌ی مهمی است زیرا:

- (۱)  روی اخلاق و رفتار ما اثر می‌گذارد. (۲)  روی سلامتی ما اثر می‌گذارد.  
(۳)  روی وضع تحصیلی و آینده‌ی ما اثر می‌گذارد. (۴)  همه‌ی موارد فوق صحیح است.

۲- چه خاکی استعداد کشاورزی ندارد؟

- (۱)  خاک‌های آبرفتی (۲)  خاک‌های آهکی و نمکی  
(۳)  خاک‌های مرطوب (۴)  دشت‌ها

۳- در کدام استان ایران معادن اورانیوم وجود دارد؟

- (۱)  یزد (۲)  اصفهان (۳)  کرمان (۴)  خوزستان

۴- کدام کشورها در کشف سرزمین‌های جدید پیشگام بودند؟

- (۱)  پرتغال و فرانسه (۲)  اسپانیا و انگلیس (۳)  پرتغال و اسپانیا (۴)  انگلیس و فرانسه

۵- نام عملیات آزادسازی خرمشهر چه بود؟

- (۱)  فتح‌المبین (۲)  بیت‌المقدس (۳)  والفجر (۴)  خیبر

ب) جاهای خالی را با کلمات مناسب کامل کنید.

۱- منابع گاز خانگی ایران سرخس در استان ..... قرار دارد.

۲- مهم‌ترین علت پیشرفت مسلمانان ..... بود.

۳- به هر صد سال ..... می‌گویند.

۴- یکی از مکان‌های عمومی گذراندن اوقات فراغت ..... می‌باشد.

۵- بریدگی‌های عمیق کناره‌ی خلیج فارس را ..... می‌گویند.

پ) جملات صحیح یا غلط را با علامت (x) مشخص کنید.

۱-  بعد از غلات مهم‌ترین منبع غذایی، حبوبات و محصولات جالیزی هستند.

۲-  بیش‌ترین منابع نفتی ایران در شرق کشور وجود دارد.

۳-  مهم‌ترین مرکز علمی جهان اسلام در آن دوره دانشگاه جندی شاپور بود.

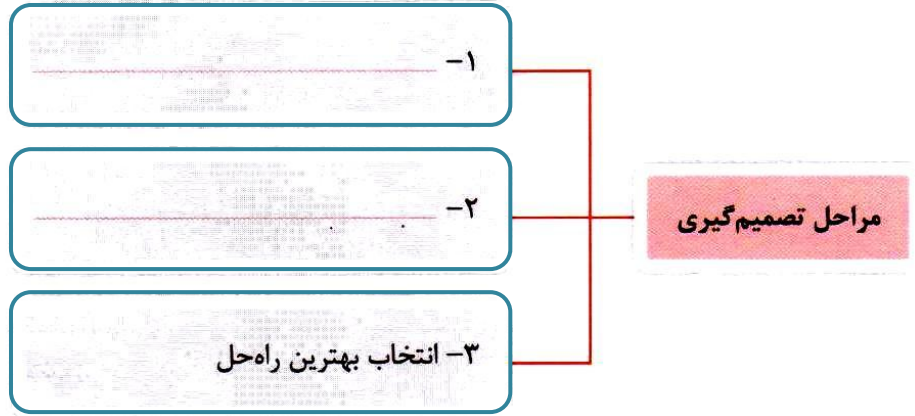
۴-  ابریشم و پارچه‌های زربفت از کالاهای صادراتی دوره‌ی پهلوی بود.

ت) مفاهیم زیر را تعریف کنید.

۱- تولید انبوه:

۲- استعمار:

ث) جدول زیر را کامل کنید.



ج) به سؤالات زیر پاسخ کوتاه دهید.

۱- دو فعالیت مهم در کشاورزی چیست؟

۲- دو شغل وابسته به دریا را نام ببرید.

۳- دو نوع رابطه‌ی ما با کشورهای همسایه را بنویسید.

چ) به سؤالات زیر پاسخ کامل دهید.

۱- دو ملاک انتخاب دوست را بنویسید.

۲- دو توصیه برای حفظ دوستی را بنویسید.

۳- سه عامل انسانی مؤثر در کشاورزی را نام ببرید.

۴- فرق مهم انرژی هسته‌ای با سایر انرژی‌ها چیست؟

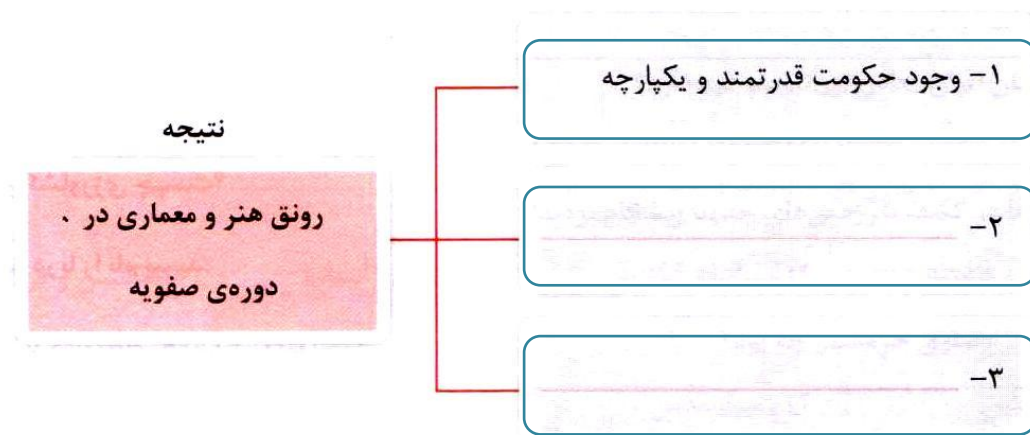
۵- مهدی به شهر شیراز سفر کرده و نقشه‌ی گردشگری این شهر را خریده است. از این نقشه چه استفاده‌هایی می‌تواند ببرد؟

نام و نام خانوادگی:

۶- دو ضرر کم‌خوابی را نام ببرید.

۷- دو علت حمله‌ی نظامی عراق به ایران را توضیح دهید.

ح) نمودار زیر را کامل کنید.




خ) با توجه به نقشه به سؤالات زیر پاسخ دهید.

۱- رود مرزی ایران و عراق:

۲- کشور همسایه‌ی ایران:

۳- نام تنگه:



# پیاموز | Biamoz.com

بزرگترین مرجع آموزشی و نمونه سوالات درسی تمامی مقاطع

شامل انواع | نمونه سوالات | فصل به فصل | پایان ترم | جزوه |

ویدئوهای آموزشی | گام به گام | طرح درس | طرح جابر | و ...

اینستاگرام

گروه تلگرام

کانال تلگرام

برای ورود به هر پایه در سایت ما روی اسم آن کلیک کنید

## دبستان

اول	دوم	سوم	چهارم	پنجم	ششم
-----	-----	-----	-------	------	-----

## متوسطه اول

هفتم	هشتم	نهم
------	------	-----

## متوسطه دوم

دهم	یازدهم	دوازدهم
-----	--------	---------