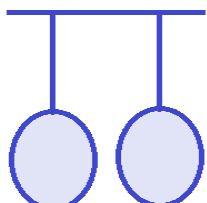




ه) به سوالات زیر با دقت پاسخ دهید. (بارم هر سوال ۱ نمره است)

نمره	ن	ق	خ	خ خ										
					۱- جدول زیر را کامل کنید:									
۱					<table border="1"> <thead> <tr> <th>وسيله</th> <th>نام فلز</th> <th>علت استفاده</th> </tr> </thead> <tbody> <tr> <td>رشته های سیم برق</td> <td></td> <td></td> </tr> <tr> <td>روکش نازک دارو</td> <td></td> <td></td> </tr> </tbody> </table>	وسيله	نام فلز	علت استفاده	رشته های سیم برق			روکش نازک دارو		
وسيله	نام فلز	علت استفاده												
رشته های سیم برق														
روکش نازک دارو														
۱					۲- در هر مورد تبدیل انرژی را بنویسید: رها کردن تیر از کمان: به رادیو: به									
۱					۳- اگر در شکل هر دو بادکنک با موی سر مالش داده شوند، چه اتفاقی خواهد افتاد؟ چرا؟ 									
۱					۴- کامل کنید: <div style="display: flex; justify-content: space-around; align-items: center;"> <div style="text-align: center;"> <p>میوه روغن دار</p>  </div> <div style="text-align: center;"> <p>دانه نشاسته دار</p>  </div> </div>									
۱					۵- چه زمانی یک جسم سنگین را می توان جابه جا کرد؟									
۱					۶- فواید و مضرات آتش فشان را نام ببرید: (از هر کدام دو مورد) فواید: مضرات:									
۱					۷- مراحل بازیافت را به ترتیب نام ببرید:									
۱					۸- نقش قارچ ها را در زنجیره غذایی بنویسید:									
۱					۹- راه های پیشگیری از بیماری را نام ببرید: ۱- ۲-									
۱					۱۰- علت جامد بودن هسته درونی زمین چیست؟									
۱					۱۱- گلبول های سفید چگونه با میکروب هایی که به بدن وارد شده اند، مبارزه می کنند؟									
۱					۱۲- گیاهان چگونه به کم کردن آلودگی هوا کمک می کنند؟									