

<p>نام و نام خانوادگی: مدت آزمون: ۹۰ دقیقه تاریخ امتحان: ارسال کننده:</p>	<p>آزمون پایانی نوبت دوم درس: ریاضی پایه ششم ابتدایی</p>
---	--

ردیف	شرح سوالات	نمره
۱	<p>جمله‌ای صحیح را با علامت <math>\checkmark</math> و جمله‌های نادرست را با علامت <math>\times</math> مشخص کنید.</p> <p>الف) عدد ۷۶ بر ۳ بخش‌پذیر است چون رقم یکانش بر ۳ بخش‌پذیر است.</p> <p>ب) عددهای <math>..., +4, +3, +2, +1, 0, -1, -2, -3, -4, ...</math> را عددهای صحیح می‌نامیم.</p> <p>پ) هرگاه حاصل ضرب دو عدد برابر یک باشد، آن دو عدد را معکوس یکدیگر می‌نامند.</p> <p>ت) اگر طول و عرض نقطه‌ای به ترتیب ۷ و ۱۱ باشد مختصات آن نقطه <math>\begin{bmatrix} 11 \\ 7 \end{bmatrix}</math> است.</p>	
۲	<p>جاهای خالی را کامل کنید.</p> <p>ث) جمله‌ی بیستم در الگوی <math>(2, 4, 6, 8, \dots)</math> ..... است.</p> <p>ج) معکوس عدد <math>2\frac{21}{3}</math> ..... است.</p> <p>چ) حاصل تفریق دو عدد زوج ..... است.</p> <p>ح) در تقارن عمودی مؤلفه‌ی ..... تغییر نمی‌کند.</p> <p>خ) <math>5/9</math> کیلوگرم ..... گرم است.</p>	
۳	<p>صحیح‌ترین پاسخ را با علامت <math>\checkmark</math> مشخص کنید.</p> <p>د) کدام یک از اعداد زیر با تقریب کمتر از ۱۰۰ قطع شده و گرد شده آن یکی است؟</p> <p style="text-align: center;"> <input type="checkbox"/> ۲۴۳۰      <input type="checkbox"/> ۲۴۶۰      <input type="checkbox"/> ۳۴۶۰      <input type="checkbox"/> ۴۴۷۰         </p> <p>ذ) متمم و مکمل زاویه ۲۵ درجه به ترتیب از راست به چپ عبارتند از:</p> <p style="text-align: center;"> <input type="checkbox"/> ۱۴۵-۷۵      <input type="checkbox"/> ۱۵۵-۶۵      <input type="checkbox"/> ۱۶۵-۵۵      <input type="checkbox"/> ۱۵۵-۴۵         </p> <p>ر) ارزش مکانی دهگان میلیون عدد ۶۳۸۳۱۵۶۸ کدام است؟</p> <p style="text-align: center;"> <input type="checkbox"/> ۶      <input type="checkbox"/> ۳      <input type="checkbox"/> ۸      <input type="checkbox"/> ۴         </p> <p>ز) کدام عدد با بقیه برابر نیست؟</p> <p style="text-align: center;"> <input type="checkbox"/> ۲/۰۹۰      <input type="checkbox"/> ۲/۰۹      <input type="checkbox"/> ۲/۰۰۹۰      <input type="checkbox"/> ۲/۰۹۰۰         </p>	
۴	<p>مقایسه کنید و علامت مناسب (<math>&lt; = &gt;</math>) قرار دهید.</p> <p style="text-align: center;"> <math>-18 \square - 32</math>      <math>130/7 \square 13/95</math>      <math>-8 \square + 4</math> </p> <p style="text-align: center;"> <math>-3 \square 0</math>      <math>11 \square \frac{5}{6}</math>      <math>\frac{1}{2} \square 0/50</math> </p>	
۵	<p>حاصل عبارت زیر را به دست آورید.</p>	$\frac{1\frac{1}{2} - 1\frac{1}{3}}{1\frac{1}{2} + 1\frac{1}{3}} =$

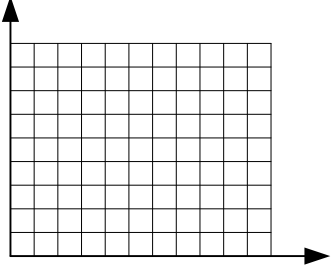
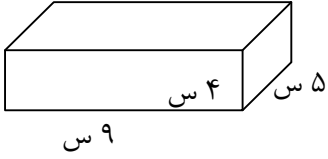
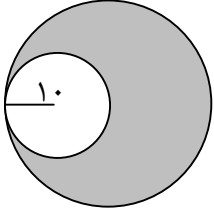
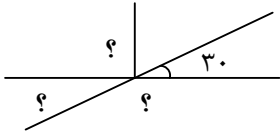
نام و نام خانوادگی:

مدت آزمون: ۹۰ دقیقه

تاریخ امتحان:

ارسال کننده:

آزمون پایانی نوبت دوم درس: ریاضی  
پایه ششم ابتدایی

ردیف	شرح سوالات	نمره												
۶	تقسیم زیر را تا دو رقم اعشار در خارج قسمت بدست آورید. $43/70 \overline{) 37}$													
۷	مختصات رأس‌های یک چهارضلعی عبارتند از: $\begin{bmatrix} 2 \\ 2 \end{bmatrix} \text{ د} \quad \begin{bmatrix} 5 \\ 5 \end{bmatrix} \text{ ج} \quad \begin{bmatrix} 2 \\ 5 \end{bmatrix} \text{ ب} \quad \begin{bmatrix} 5 \\ 2 \end{bmatrix} \text{ آ}$ الف) چهار ضلعی را رسم و نوع آن را مشخص کنید؟ ب) مساحت آن را بدست آورید. 													
۸	حجم شکل روبه‌رو را بدست آورید. 													
۹	مساحت قسمت رنگی شکل زیر را به دست آورید. 													
۱۰	قیمت یک کتاب ۲۴۰۰۰ تومان است. اگر فروشنده بخواهد آن را ۱۰ درصد تخفیف بفروشد، کتاب با چه قیمتی به فروش می‌رسد؟													
۱۱	مقدار تقریبی اعداد داخل جدول را بدست آورید.													
	<table border="1"> <thead> <tr> <th>عدد</th> <th>با تقریب کمتر از</th> <th>قطع کردن</th> <th>گرد کردن</th> </tr> </thead> <tbody> <tr> <td>۲۸۷/۲۴۶</td> <td>۰/۰۱</td> <td></td> <td></td> </tr> <tr> <td>۳۵۶۸</td> <td>۱۰</td> <td></td> <td></td> </tr> </tbody> </table>	عدد	با تقریب کمتر از	قطع کردن	گرد کردن	۲۸۷/۲۴۶	۰/۰۱			۳۵۶۸	۱۰			
عدد	با تقریب کمتر از	قطع کردن	گرد کردن											
۲۸۷/۲۴۶	۰/۰۱													
۳۵۶۸	۱۰													
۱۲	اندازه‌ی زاویه‌ی خواسته شده را بیابید. 													
	<p>نام و نام خانوادگی آموزگار:</p> <p>امضاء</p> <p>تاریخ:</p>													

# پیاموز | Biamoz.com

بزرگترین مرجع آموزشی و نمونه سوالات درسی تمامی مقاطع

شامل انواع | نمونه سوالات | فصل به فصل | پایان ترم | جزوه |

ویدئوهای آموزشی | گام به گام | طرح درس | طرح جابر | و ...

اینستاگرام

گروه تلگرام

کانال تلگرام

برای ورود به هر پایه در سایت ما روی اسم آن کلیک کنید

## دبستان

اول	دوم	سوم	چهارم	پنجم	ششم
-----	-----	-----	-------	------	-----

## متوسطه اول

هفتم	هشتم	نهم
------	------	-----

## متوسطه دوم

دهم	یازدهم	دوازدهم
-----	--------	---------