


## نمونه سؤالات ریاضی ششم ابتدایی

۱. اندازه در خودکار را به عدد مخلوط، کسر بزرگ‌تر از واحد و عدد اعشاری بنویسید.

۲. طول 

یک راه ۱۲۰ کیلومتر است،  $\frac{2}{3}$  مسیر چند کیلومتر است؟ (از راه رسم شکل نمایش دهید)

۳. جمع و تفریق را روی محور نمایش دهید.

$$1\frac{1}{2} + 2\frac{1}{3} =$$

$$2\frac{2}{9} - 1\frac{1}{3} =$$

۴. پاسخ  $1\frac{1}{3} \times 3\frac{2}{3}$  را به کمک مساحت پیدا کنید.

۵. جای ممیز را در حاصل ضرب های زیر درست انتخاب کنید.

$$3/1 * 10 =$$

$$/231 * 10 =$$

$$/231 * 100 =$$

$$/231 * 1000 =$$

$$\begin{array}{r} 35/5 \quad 3 \\ \hline \end{array}$$

۶. تقسیم را انجام دهید.

۷. در جاهای خالی، واحدهای مناسب طول بنویسید.

طول دروازه فوتبال  $7/33$  است.

قد طاها حسینی ۱۲۷ است.

۸. جدول را کامل کنید.

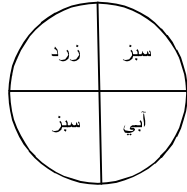
عدد	مقدار تقریبی به روش قطع کردن	مقدار تقریبی به روش گرد کردن
۳۷۴		
۳۵۴۰		
۱۶۷۳/۸		

۹. یک کارگر  $\frac{1}{7}$  استادکار و یک استادکار  $\frac{1}{2}$  سرکارگر دستمزد می گیرند.

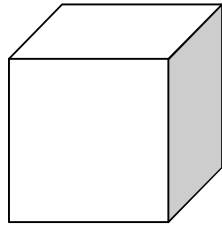
الف) نسبت هر کدام را به دست آورید.

ب) اگر مجموع دستمزد آنها  $600/000$  تومان باشد، سهم هر کدام را پیدا کنید.

۱۰. اگر چرخنده را ۴۰۰ بار بچرخانیم، عقربه تقریباً چند مرتبه روی رنگ آبی می‌ایستد، چرا؟

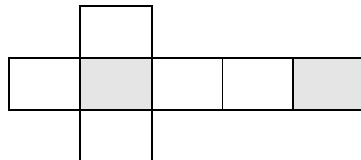


۱۱. مکعبی به ضلع ۶ سانتی متر داریم. سطح کل و حجم مکعب را حساب کنید.



۱۲. یک محور مختصات رسم کنید و سه نقطه  $A[۲]$  و  $B[۳]$  و  $C[۴]$  را روی آن نمایش دهید.

۱۳. محیط شکل مقابل ۷۰ سانتی متر است، ضلع مربع چند سانتی متر است؟ مساحت هاشور زده را حساب کنید.



۱۴. طول، عرض و ارتفاع یک استخر به ترتیب ۸، ۵ و  $\frac{۲}{۵}$  متر است، اگر برای رنگ آمیزی هر مترمربع  $\frac{۰}{۳}$  لیتر رنگ

لازم باشد؛

الف) برای رنگ کردن این استخر چند لیتر رنگ لازم است؟

ب) گنجایش این استخر چند لیتر است؟

۱۵. مکان نقاط  $A[۳]$  و  $B[۱]$  را روی صفحه مختصات رسم کنید و بعد آنها را به هم وصل کنید. نام شکل

مقابل را بنویسید.

# پیاموز | Biamoz.com

بزرگترین مرجع آموزشی و نمونه سوالات درسی تمامی مقاطع

شامل انواع | نمونه سوالات | فصل به فصل | پایان ترم | جزوه |

ویدئوهای آموزشی | گام به گام | طرح درس | طرح جابر | و ...

اینستاگرام

گروه تلگرام

کانال تلگرام

برای ورود به هر پایه در سایت ما روی اسم آن کلیک کنید

## دبستان

اول	دوم	سوم	چهارم	پنجم	ششم
-----	-----	-----	-------	------	-----

## متوسطه اول

هفتم	هشتم	نهم
------	------	-----

## متوسطه دوم

دهم	یازدهم	دوازدهم
-----	--------	---------