
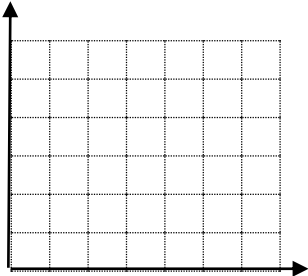

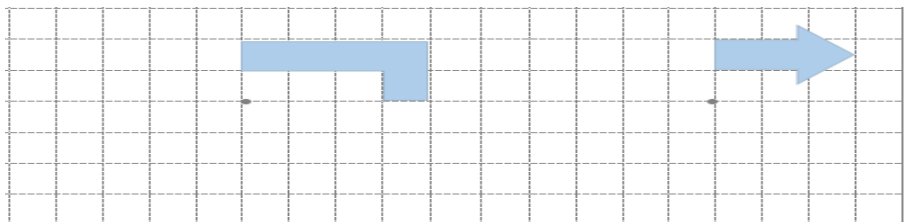


آنکه پدر و مادرش را خشنود کند، خدا را خشنود کرده و کسی که پدر و مادر خود را به خشم آورد، خدا را به خشم آورده است. پیامبر اکرم(ص)

تسلط کامل	عبارتهای درست را با علامت \checkmark و نادرست را با علامت \times مشخص کنید.	
تسلط خوب	۱- کوچکترین عدد صحیح منفی ۱- می باشد <input type="radio"/>	۱
	۲- عددی که بر ۳ بخش پذیر است حتما بر ۹ بخش پذیر است. <input type="radio"/>	
	۳- باقیمانده تقسیم عددی بر ۵ می تواند ۵ و ۱۴ و ۳ و ۲ و ۱ و ۰ باشد. <input type="radio"/>	
	۴- حاصل جمع یک عدد زوج با یک عدد فرد همیشه زوج است. <input type="radio"/>	
متوسط	۵- متمم زاویه ۳۰ درجه ۵۰ می باشد. <input type="radio"/>	
	۶- واحد مناسب مساحت جلد کتاب ریاضی سانتی متر مربع است. <input type="radio"/>	
	۷- در روش گرد کردن پاسخ به مقدار واقعی نزدیکتر و خطای آن کمتر است. <input type="radio"/>	
کم	۸- عدد ۹ را چهار برابر کردیم یعنی ۴۰۰ درصد به آن اضافه کردیم <input type="radio"/>	
تسلط کامل	گزینه صحیح را انتخاب کنید.	
تسلط خوب	۱- عدد ۲۴ مضرب کدام عدد نیست. الف) ۶ <input type="radio"/> ب) ۸ <input type="radio"/> ج) ۵ <input type="radio"/> د) ۳ <input type="radio"/>	۲
	۲- عدد بیستم در الگوی و ۵ و ۳ و ۱ کدام عدد است؟ الف) ۴۰ <input type="radio"/> ب) ۴۱ <input type="radio"/> ج) ۳۹ <input type="radio"/> د) ۳۸ <input type="radio"/>	
	۳- فاطمه در صف ۳۳ نفره مدرسه نفر وسط است اگر دو نفر قبل از او از صف خارج شوند نفر چندم می شود؟ الف) ۱۷ <input type="radio"/> ب) ۱۶ <input type="radio"/> ج) ۱۹ <input type="radio"/> د) ۱۵ <input type="radio"/>	
متوسط	۴- حاصل عبارت $2 \times 8 - 12 \div 48$ برابر است با الف) ۱۴۴ <input type="radio"/> ب) ۱۴۸ <input type="radio"/> ج) ۱۴۰ <input type="radio"/> د) صفر <input type="radio"/>	
	۵- کدام شکل محور تقارن ندارد ولی مرکز تقارن دارد. الف) لوزی <input type="radio"/> ب) ذوزنقه <input type="radio"/> ج) متوازی الاضلاع <input type="radio"/> د) مثلث <input type="radio"/>	
کم	۶- اگر طول و عرض مستطیلی را دو برابر کنیم مساحت آن چند برابر می شود؟ الف) ۲ برابر <input type="radio"/> ب) ۴ برابر <input type="radio"/> ج) ۸ برابر <input type="radio"/> د) ۱۶ برابر <input type="radio"/>	

<p>تسلط کامل</p> <p>تسلط خوب</p> <p>متوسط</p> <p>کم</p>	<p>جاهای خالی را با کلمات یا اعداد مناسب پر کنید.</p> <p>۱- هر عدد صحیح از هر عدد صحیح بزرگتر است.</p> <p>۲- یک مخروط از بالا به شکل و از روبه رو به شکل دیده می شود.</p> <p>۳- دو زاویه که مجموع آنها ۱۸۰ درجه باشد یکدیگرند.</p> <p>۴- ۹۷ میلیمتر برابر است با سانتی متر است.</p> <p>۵- یک کیلومتر مربع با هکتار برابر است.</p> <p>۶- فاصله یکی از روستاهای شهرستان سراب تا شهر ۵۶ کیلومتر است $\frac{۳}{۴}$ این مسیر کیلومتر است.</p> <p>۷- وقتی میگوییم تقسیمی را تا دو رقم اعشار ادامه دهید یعنی با تقریب کمتر از بدست آورید.</p>	<p>۳</p>
<p>تسلط کامل</p> <p>تسلط خوب</p> <p>متوسط</p> <p>کم</p>	<p>۱- با توجه به الگو شکل بیست و پنجم با چند مربع ساخته می شود؟</p>  <p>۲- شکل چندم با ۹۹ مربع درست می شود؟</p>	<p>۴</p>
<p>تسلط کامل</p> <p>تسلط خوب</p> <p>متوسط</p> <p>کم</p>	<p>حاصل عبارت های زیر را بدست آورید.</p> $\frac{۲}{۵} + \frac{۳}{۴} - \frac{۱}{۱۰}$ $\frac{۱}{۶} + \frac{۳}{۴} =$ $\frac{۲}{۵} \times \frac{۵}{۶}$	<p>۵</p>
<p>تسلط کامل</p> <p>تسلط خوب</p> <p>متوسط</p> <p>کم</p>	<p>علی با $\frac{۲}{۵}$ پول خود کتاب و $\frac{۱}{۳}$ باقی مانده پول خود دفتر خرید و $\frac{۱}{۴}$ باقی مانده را پس انداز کرد اگر برای او ۸۰۰۰ تومان مانده باشد او چقدر پول داشته است؟</p>	<p>۶</p>

<p>تسلط کامل تسلط خوب متوسط کم</p>	<p>تقسیم های زیر را تا دو رقم اعشار ادامه دهید. $2 \overline{) 3}$ $47 \overline{) 75} \quad 3 \overline{) 12}$</p>	<p>۷</p>
<p>تسلط کامل تسلط خوب متوسط کم</p>	<p>مختصات راس های یک مثلث بصورت زیر است ابتدا مثلث رادرفحه ی مختصات رسم کنید سپس مساحت آن را بدست آورید. $B = \begin{bmatrix} 1 \\ 3 \end{bmatrix}$ $D = \begin{bmatrix} 1 \\ 1 \end{bmatrix}$ $C = \begin{bmatrix} 3 \\ 1 \end{bmatrix}$</p> 	<p>۸</p>
<p>تسلط کامل تسلط خوب متوسط کم</p>	<p>محیط و مساحت شکل ها را حساب کنید .</p> 	<p>۹</p>
<p>تسلط کامل تسلط خوب متوسط کم</p>	<p>قیمت یک پیراهن ۴۸۰۰۰ تومان است اگر فروشنده بخواهد آن را با ۲۰ درصد تخفیف بفروشد پیراهن با چه قیمتی به فروش می رسد؟</p>	<p>۱۱</p>
<p>تسلط کامل تسلط خوب متوسط کم</p>	<p>نسبت متمم زاویه ای به مکمل آن ۲ به ۸ است این زاویه چند درجه است؟</p>	<p>۱۲</p>
<p>تسلط کامل تسلط خوب متوسط کم</p>	<p>قرینه هر شکل را نسبت به نقطه داده شده پیدا کنید.</p> 	<p>۱۳</p>

پیاموز | Biamoz.com

بزرگترین مرجع آموزشی و نمونه سوالات درسی تمامی مقاطع

شامل انواع | نمونه سوالات | فصل به فصل | پایان ترم | جزوه |

ویدئوهای آموزشی | گام به گام | طرح درس | طرح جابر | و ...

اینستاگرام

گروه تلگرام

کانال تلگرام

برای ورود به هر پایه در سایت ما روی اسم آن کلیک کنید

دبستان

اول	دوم	سوم	چهارم	پنجم	ششم
-----	-----	-----	-------	------	-----

متوسطه اول

هفتم	هشتم	نهم
------	------	-----

متوسطه دوم

دهم	یازدهم	دوازدهم
-----	--------	---------