

بسمه تعالی

نام:

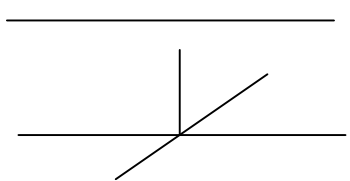
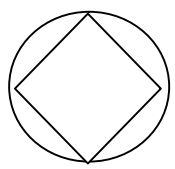
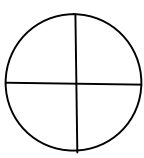
نام خانوادگی:

نام پدر:

مدت آزمون: ۹۰ دقیقه

تاریخ آزمون: / /

ردیف	سوالات	بارم
۱	مقایسه کنید و علامت مناسب ( $\leq$ یا $\geq$ ) بگذارید. $0/35$ <input type="checkbox"/> $0/035$ $-32$ <input type="checkbox"/> $16$ $\frac{13}{5}$ <input type="checkbox"/> $2\frac{3}{5}$	<input type="checkbox"/> خ <input type="checkbox"/> خ <input type="checkbox"/> ق ق <input type="checkbox"/> ن
۲	حاصل عبارات زیر را بدست آورید. $2 \div \frac{1}{2}$ $3 + \frac{3}{4}$ $\frac{1}{3} \times \frac{2}{4}$ $1\frac{2}{5} - \frac{2}{3}$	<input type="checkbox"/> خ <input type="checkbox"/> خ <input type="checkbox"/> ق ق <input type="checkbox"/> ن
۳	کشاورزی نیمی از زمین خود را جو کاشت و نیم دیگر را به ۴ قسمت مساوی تقسیم کرد در یک قسمت یونجه کاشت پس در قسمت های دیگر سبزی کاشت اوچه کسری از زمین خود را سبزی کاشته است. (با رسم شکل)	<input type="checkbox"/> خ <input type="checkbox"/> خ <input type="checkbox"/> ق ق <input type="checkbox"/> ن
۴	تقسیم زیر را تا دو رقم اعشار در خارج قسمت ادامه دهید و باقیمانده را مشخص کنید. $57/83$ $3/12$	<input type="checkbox"/> خ <input type="checkbox"/> خ <input type="checkbox"/> ق ق <input type="checkbox"/> ن
۵	وزن نوزادی با مادرش $65/32$ کیلوگرم است اگر وزن مادر $62$ کیلوگرم باشد وزن نوزاد چقدر است.	<input type="checkbox"/> خ <input type="checkbox"/> خ <input type="checkbox"/> ق ق <input type="checkbox"/> ن
۶	کدام یک از اشکال زیر مرکز تقارن ندارد. مربع <input type="checkbox"/> مستطیل <input type="checkbox"/> دوزنقه <input type="checkbox"/> دایره <input type="checkbox"/>	<input type="checkbox"/> خ <input type="checkbox"/> خ <input type="checkbox"/> ق ق <input type="checkbox"/> ن
۷	حجم شکل مقابل را بدست آورید.	<input type="checkbox"/> خ <input type="checkbox"/> خ <input type="checkbox"/> ق ق <input type="checkbox"/> ن

<input type="checkbox"/> خ خ <input type="checkbox"/> خ <input type="checkbox"/> ق ق <input type="checkbox"/> ن	<p>۸ با رعایت ترتیب انجام عملیات حاصل عبارت ها را بدست آورید.</p> <p>الف) <math>3/6 + (4 \times 2/5) \div 2 =</math></p> <p>ب) <math>6/4 + 6/2 \times 2/2 =</math></p>	۸
<input type="checkbox"/> خ خ <input type="checkbox"/> خ <input type="checkbox"/> ق ق <input type="checkbox"/> ن	<p>۹ قیمت یک لباس ۳۵۰۰۰ تومان است اگر فروشنده بخواهد آن را با ۲۰ درصد تخفیف به فروش برساند لباس با چه قیمتی به فروش می رسد.</p>	۹
<input type="checkbox"/> خ خ <input type="checkbox"/> خ <input type="checkbox"/> ق ق <input type="checkbox"/> ن	<p>۱۰ در جاهای خالی عدد یا کلمه مناسب قرار دهید.</p> <p>الف) واحد اندازه گیری زمین کشاورزی .....  ب) ۱/۵ لیتر برابر است با ..... سی سی  ج) ۲ متر برابر است با ..... دسی متر  د) یک متر مکعب برابر است با ..... لیتر</p>	۱۰
<input type="checkbox"/> خ خ <input type="checkbox"/> خ <input type="checkbox"/> ق ق <input type="checkbox"/> ن	<p>۱۱ با توجه به شکل به سوالات پاسخ دهید.</p> <p>الف) تعداد پاره خط  ب) اندازه زاویه آ و ب</p> 	۱۱
<input type="checkbox"/> خ خ <input type="checkbox"/> خ <input type="checkbox"/> ق ق <input type="checkbox"/> ن	<p>۱۲ پاسخ را در جای خالی بنویسید.</p> <p>الف) عدد <math>0/0432</math> با تقریب کمتر از <math>0/01</math> با روش قطع کردن .....  ب) عدد <math>32/806</math> با تقریب کمتر از <math>1</math> با روش گرد کردن .....  ج) عدد <math>4175</math> با تقریب کمتر از <math>10</math> با روش گرد کردن .....</p>	۱۲
<input type="checkbox"/> خ خ <input type="checkbox"/> خ <input type="checkbox"/> ق ق <input type="checkbox"/> ن	<p>۱۳ مساحت قسمت های رنگی را بدست آورید.</p> <div style="display: flex; justify-content: space-around; align-items: center;"> <div style="text-align: center;">  <p>شعاع دایره ۵ ضلع مربع ۵</p> </div> <div style="text-align: center;">  <p>شعاع دایره ۱۰</p> </div> </div>	۱۳
<p><b>نتیجه نهایی:</b></p> <p>خیلی خوب <input type="checkbox"/> خوب <input type="checkbox"/> قابل قبول <input type="checkbox"/> نیاز به تلاش بیشتر <input type="checkbox"/> خسته نباشید</p>		

# پیاموز | Biamoz.com

بزرگترین مرجع آموزشی و نمونه سوالات درسی تمامی مقاطع

شامل انواع | نمونه سوالات | فصل به فصل | پایان ترم | جزوه |

ویدئوهای آموزشی | گام به گام | طرح درس | طرح جابر | و ...

اینستاگرام

گروه تلگرام

کانال تلگرام

برای ورود به هر پایه در سایت ما روی اسم آن کلیک کنید

## دبستان

اول	دوم	سوم	چهارم	پنجم	ششم
-----	-----	-----	-------	------	-----

## متوسطه اول

هفتم	هشتم	نهم
------	------	-----

## متوسطه دوم

دهم	یازدهم	دوازدهم
-----	--------	---------