

تعداد صفحات: ۵	به نام خدا	نام و نام خانوادگی:
جای مهر		ساعت امتحان: ۶۰ دقیقه
نمره تجدید نظر:	پایه هشتم	دبیر:
		نمره و امضا:

تذکره: با خود کار سیاه و آبی نوشته شود خود کار قرمز و مداد به منزله تقلب است

صحیح یا غلط بودن جملات زیر را مشخص کنید. (هر مورد ۰/۲۵ نمره)

- ۱- در دین اسلام محبت و توجه به همسایه سفارش بسیار شده است. ص غ
- ۲- در شرکت تعاونی، گروهی از افراد به طور داوطلبانه برای یک هدف مشترک تلاش می کنند. ص غ
- ۳- عالی ترین مقام رسمی کشور رئیس جمهور است. ص غ
- ۴- فعالیت وزارت آموزش و پرورش زیر نظر مقام رهبری است. ص غ

پاسخ کوتاه دهید (هر مورد ۰/۲۵).

- ۵- یک خصوصیت خود را که در دوره بلوغ برای شما ایجاد شده است را نام ببرید؟
- ۶- برای جلوگیری از آسیب های اجتماعی و محافظت نخست به هر نوجوان، چه کسی باید کمک کند؟
- ۷- یک رسانه نام ببرید؟
- ۸- امروزه برای خرید و فروش، افراد از چه چیزی استفاده می کنند؟

۹- گزینه های سمت راست را به عبارت های مناسب سمت چپ وصل کنید (هر مورد ۰/۲۵ نمره)

- | | |
|---|----------------|
| ● انتقال بخشی از میراث ادبی و تاریخی ایران در زبان فارسی با ترجمه کتب به عربی | ● معاویه |
| ● نخستین اقدام پیامبر پس از ورود به مدینه. | ● خاندان بلعمی |
| ● خلافت را موروثی کرد. | ● منصور |
| ● شهر بغداد را بنا کرد. | ● تاسیس مسجد |
| ● | ● ابن مقفع |

۱۰- بهانه حمله سلطان محمود به هندوستان چه بود؟ (نمره)

.....

۱۱- در دوره سلجوقیان، زبان فارسی چه سرانجامی پیدا کرد؟ (انمره)

.....

۱۲- به نظر شما آیا انسان ها در جنگ نیز باید حقوق دیگران را رعایت کنند؟ چگونه؟ (انمره)


.....

.....

۱۴- به تصویر مسجد جامع ورامین و گنبد سلطانیه توجه کنید و شباهت های آن را بنویسید؟ (انمره)



گنبد سلطانیه



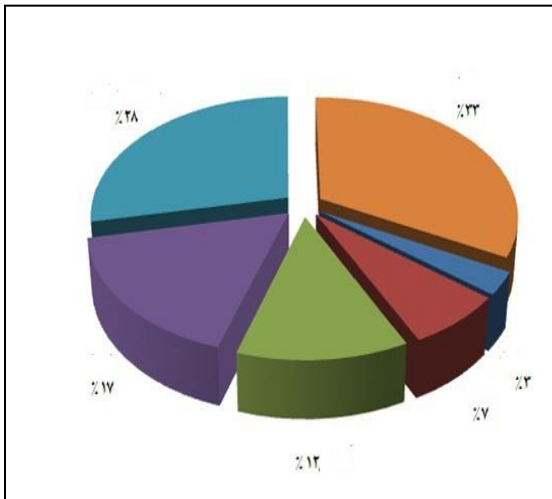
مسجد جامع ورامین

.....

.....

.....

۱۵- با توجه به نمودار قاره ها، نام قاره ها را به ترتیب بنویسید؟ (۲۵/ انمره)



.....-۱

.....-۲

.....-۳

.....-۴

.....-۵

۱۶- در آسیای مرطوب زندگی کشاورزی مردم در روستاها تحت تاثیر چه رویدادهای طبیعی می باشد؟ (۵/۰نمره)

.....

.....

۱۷- بره‌های اقتصادی آسیا لقب کدام کشورها است؟ چرا؟ (۱نمره)

.....

۱۸- تصاویر زیر در مورد کدام ادیان در آسیا می باشد؟ (۷۵/۰نمره)



معبد



رود گنگ



مسجد

.....(ج)

.....(ب)

.....(الف)

۱۹- برای هر یک از انواع آب و هوا، شهر یا منطقه ای را در آسیای جنوب غربی بنویسید؟ (۱نمره)

آب و هوای گرم و خشک (.....) آب و هوای گرم و شرجی (.....)

آب و هوای مدیترانه ای (.....) آب و هوای سرد کوهستانی (.....)

۲۰- در منطقه جنوب غربی آسیا از گروه های زبانی یک کشور بنویسید؟ (۷۵/۰نمره)

الف) زبان فارسی ب) زبان عربی ج) زبان ترکی

۲۱- دو دلیل برای قدرتمند بودن ایران در منطقه جنوب غربی آسیا بنویسید؟ (۱نمره)

.....

.....

۲۲- نظر خود را در مورد صلح در منطقه جنوبی غربی آسیا بنویسید و بگویید چه پیامدی دارد؟ (۷۵/۰ نمره)

۲۳- نقاط مشخص شده در نقشه آفریقا را بنویسید؟ (۱/۵ نمره)

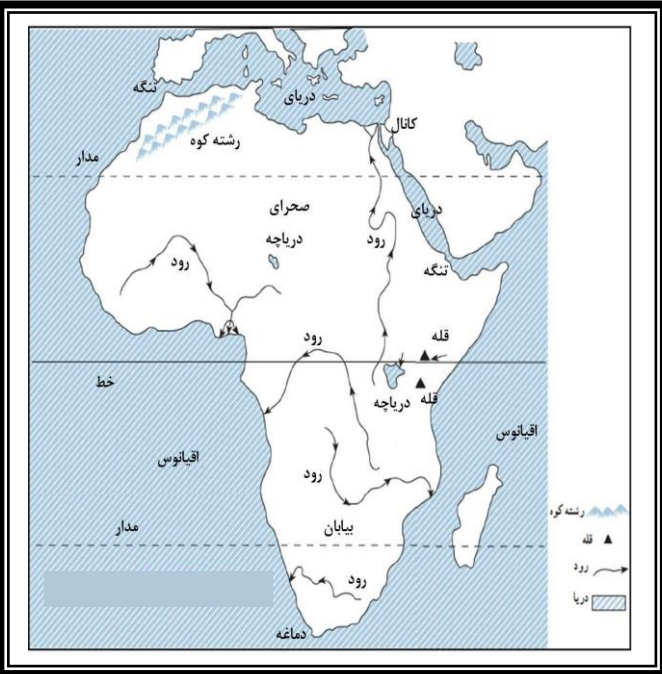
الف) کشورهای مسلمان در کدام قسمت آفریقا قرارداد نوشته در نقشه با رنگ سبز نشان دهید؟

ب) روی نقشه رود نیل را نشان دهید و بگویید چه محصول کشاورزی در کناره ای آن کشت می شود؟

ج) رشته کوه های شمال غربی آفریقا چه نام دارد؟

د) کدام تنگه آفریقا را از اروپا جدا می کند؟

ه) از میان، قاره آفریقا کدام مدار عبور می کند؟



۲۴- من چه مکانی هستم؟ (۵/۰ نمره)

مسلمانان در قاره اروپا پراکنده اند، اما بیشتر آنها در..... زندگی می کنند

۲۵- اروپای پیر را تعریف کنید؟ (۱ نمره)

۲۶- دو عامل پیشرفت آمریکای شمالی و تبدیل آن به یک قدرت بزرگ اقتصادی را بنویسید؟ (۱ نمره)

۲۷- اقیانوسیه به کجا گفته می شود؟ (۱ نمره)

۲۸- با توجه به سوالات جدول را پاسخ دهید. (نمره)

الف) پرجمعیت ترین شهر ایالات متحده آمریکا؟

ب) مهمترین رشته کوه نیوزیلند؟

ج) اقیانوس اطلس را به اقیانوس آرام اتصال می دهد؟

د) پایتخت استرالیا؟

							الف
							ب
							ج
							د

موفق باشید

پیاموز | Biamoz.com

بزرگترین مرجع آموزشی و نمونه سوالات درسی تمامی مقاطع

شامل انواع | نمونه سوالات | فصل به فصل | پایان ترم | جزوه |

ویدئوهای آموزشی | گام به گام | طرح درس | طرح جابر | و ...

اینستاگرام

گروه تلگرام

کانال تلگرام

برای ورود به هر پایه در سایت ما روی اسم آن کلیک کنید

دبستان

اول	دوم	سوم	چهارم	پنجم	ششم
-----	-----	-----	-------	------	-----

متوسطه اول

هفتم	هشتم	نهم
------	------	-----

متوسطه دوم

دهم	یازدهم	دوازدهم
-----	--------	---------