

نام و نام خانوادگی:		باسمه تعالی		نام درس: مطالعات اجتماعی	
نام پدر:		اداره سنجش		تاریخ امتحان:	
نام آموزشگاه:		مدیریت آموزش و پرورش .....		مدت امتحان: ۶۰ دقیقه	
نمره کتبی:		جمع نمره با حروف:		ساعات امتحان:	
نمره شفاهی - عملی:		نام و نام خانوادگی و امضای مصحح:		سوالات در ۵ صفحه	

ردیف	پایه نهم	نمره
------	----------	------

**سوالات اجباری: دانش آموزان عزیز در این بخش لطفاً به تمامی سوالات ۱ تا ۲۴ پاسخ دهید.**



۰/۲۵	۱- رژیم شاه امام خمینی (ره) را در ۱۳ آبان سال ۱۳۴۳ به کشور عراق تبعید کرد.	درست <input type="checkbox"/> نادرست <input type="checkbox"/>				
۰/۲۵	۲- انقلاب کبیر فرانسه همزمان با تأسیس سلسله افشاریه در اروپا رخ داد.	درست <input type="checkbox"/> نادرست <input type="checkbox"/>				
۰/۲۵	۳- کدام گزینه جزء موانع و مشکلات حکومت مشروطه محسوب نمی شود؟ الف) استبداد محمدعلی شاه <input type="checkbox"/> ب) مخالفت روس ها با مشروطیت <input type="checkbox"/> ج) اختلاف بین مشروطه خواهان <input type="checkbox"/> د) مخالفت انگلیسی ها با مشروطیت <input type="checkbox"/>					
۰/۲۵	۴- قیام ۱۹ دی ماه ۱۳۵۶ مردم قم به چه دلیلی رخ داد؟ الف) درگذشت مشکوک حاج آقا مصطفی خمینی <input type="checkbox"/> ب) چهارم شهدای ۲۹ بهمن مردم تبریز <input type="checkbox"/> ج) انتشار مقاله توهین آمیز روزنامه اطلاعات <input type="checkbox"/> د) قیام خونین ۱۷ شهریور مردم تهران <input type="checkbox"/>					
۱	۵- جدول زیر مربوط به نارضایتی مردم از حکومت پهلوی می باشد؛ آن را کامل نمایید.					
	<table border="1" style="width: 100%;"> <tr> <td style="width: 50%; text-align: center;">نارضایتی اقتصادی</td> <td style="width: 50%; text-align: center;">نارضایتی فرهنگی</td> </tr> <tr> <td style="text-align: center;">-۱</td> <td style="text-align: center;">-۱</td> </tr> </table>	نارضایتی اقتصادی	نارضایتی فرهنگی	-۱	-۱	
نارضایتی اقتصادی	نارضایتی فرهنگی					
-۱	-۱					
۱	۶- در دوره قاجار، چه عواملی انگیزه و اراده مردم را برای مبارزه با استبداد و سلطه خارجی بیشتر کرد؟ (دو مورد ذکر نمایید.)					
۱	۷- نهادهای زیر با چه هدفی شکل گرفتند؟ الف) بسیج مستضعفان: ب) جهاد سازندگی:					
۱	۸- به نظر شما چه شباهت و تفاوتی بین نهضت تنباکو و نهضت ملی شدن صنعت نفت وجود دارد؟ (یک شباهت و یک تفاوت کافی است). شباهت: تفاوت:					
۰/۲۵	۹- اولین گام در راه تشکیل یک خانواده متعادل و سالم، دقت در انتخاب همسر است.	درست <input type="checkbox"/> نادرست <input type="checkbox"/>				
۰/۲۵	۱۰- واژه شهروندی به روابط متقابل مردم و قانون اشاره دارد.	درست <input type="checkbox"/> نادرست <input type="checkbox"/>				
۰/۲۵	۱۱- بهره‌وری در گذشته وجود نداشته و با صنعتی شدن رایج شده است.	درست <input type="checkbox"/> نادرست <input type="checkbox"/>				
۰/۲۵	۱۲- پدر پارسا نظامی است، در نظام، نظم و انضباط بسیار اهمیت دارد. پدر پارسا این نظم را در زندگی خویش نیز اعمال می کند. مشخص کنید؛ کدام یک از ابعاد هویتی او بر دیگری تأثیر گذاشته است؟ الف) جسمانی بر اخلاقی <input type="checkbox"/> ب) اجتماعی بر فردی <input type="checkbox"/> ج) اجتماعی بر جسمانی <input type="checkbox"/> د) فردی بر اجتماعی <input type="checkbox"/>					
۰/۲۵	۱۳- کدام یک از موارد زیر از پیامدهای نامطلوب تک فرزندی محسوب نمی شود؟ الف) رشد اجتماعی کودک کاهش می یابد. <input type="checkbox"/> ب) از حمایت و محبت خواهر و برادر محروم می شود. <input type="checkbox"/> ج) از داشتن هم بازی محروم می شود. <input type="checkbox"/> د) لذت ارتباطات وسیع خانوادگی برخوردار می شود. <input type="checkbox"/>					

بخش تاریخ

بخش مدنی

نام و نام خانوادگی:		باسمه تعالی	نام درس: مطالعات اجتماعی
نام پدر:		اداره سنجش	مدت امتحان: ۶۰ دقیقه
نام آموزشگاه:		مدیریت آموزش و پرورش .....	ساعات امتحان:
نمره کتبی:	نمره شفاهی - عملی:	جمع نمره با حروف:	نام و نام خانوادگی و امضای مصحح:

ردیف	پایه نهم	نمره
------	----------	------

ادامه بخش مدنی	۱۴- بهره‌وری سبز یعنی.....	۰/۲۵					
	<input type="checkbox"/> الف) افزایش تولید، حداقل هزینه مصرف <input type="checkbox"/> ب) افزایش تولید با هدف کیفیت مرغوب تر <input type="checkbox"/> ج) افزایش تولید با هدف سود بیشتر <input type="checkbox"/> د) افزایش تولید با حفظ محیط زیست						
	۱۵- ویژگی‌های اکتسابی و انتسابی را با یکدیگر مقایسه کنید.	۱					
	۱۶- نوع حقوق شهروندی را از میان واژگان زیر انتخاب نموده، و در مقابل جمله مربوط به آن در جدول بنویسید. (یک مورد اضافه است). (عدالت قانونی - عدالت قضایی - تأمین اجتماعی - حقوق فرهنگی)	۰/۷۵					
	<table border="1" style="width: 100%;"> <tr> <td>الف) دسترسی آسان به آموزش و پرورش</td> <td></td> </tr> <tr> <td>ب) جلوگیری از پیمان شدن حقوق انسانها</td> <td></td> </tr> <tr> <td>ج) حمایت از تعلیم و تربیت شایسته</td> <td></td> </tr> </table>	الف) دسترسی آسان به آموزش و پرورش		ب) جلوگیری از پیمان شدن حقوق انسانها		ج) حمایت از تعلیم و تربیت شایسته	
الف) دسترسی آسان به آموزش و پرورش							
ب) جلوگیری از پیمان شدن حقوق انسانها							
ج) حمایت از تعلیم و تربیت شایسته							
۱۷- دو مورد از نتایج تولد فرزند (فرزندآوری) را بنویسید	۱						
۱۸- تصاویر زیر کدام یک از عناصر هویت ملی (ویژگی‌های مشترک جامعه ایرانی) را نشان می‌دهند.	۰/۵						
<div style="display: flex; justify-content: space-around; align-items: center;"> <div style="text-align: center;">  <p>..... (ب)</p> </div> <div style="text-align: center;">  <p>..... (الف)</p> </div> </div>							
۱۹- در متن زیر (هنجار - نماد - ارزش) را مشخص کرده و در جدول بنویسید. «عید نوروز به سواحل نیلگون خلیج همیشه فارس رفته بودیم. در سواحل قوانین خاصی حاکم بود؛ از جمله این که باید در مناطق مشخص شده شنا می‌کردیم و ماشین را در پارکینگ، پارک می‌نمودیم. در بین جنوبی‌ها صداقت موج می‌زد. لباس‌های محلی مردم جنوب، بسیار جالب بود. سعی کردیم از خرید اضافی پرهیز نماییم؛ زیرا یکی از راه‌های موفقیت در زندگی، صرفه‌جویی است. در ضمن از بازار ساحلی برای برخی از اقوام هدیه گرفتیم.»	۰/۷۵						
<table border="1" style="width: 100%;"> <thead> <tr> <th>نماد</th> <th>ارزش</th> <th>هنجار</th> </tr> </thead> <tbody> <tr> <td style="height: 40px;"></td> <td></td> <td></td> </tr> </tbody> </table>	نماد	ارزش	هنجار				
نماد	ارزش	هنجار					

نام و نام خانوادگی:		باسمه تعالی	نام درس: مطالعات اجتماعی
نام پدر:		اداره سنجش	تاریخ امتحان:
نام آموزشگاه:		مدیریت آموزش و پرورش .....	مدت امتحان: ۶۰ دقیقه
نمره کتبی:		جمع نمره با حروف:	ساعات امتحان:
نمره شفاهی - عملی:		نام و نام خانوادگی و امضای مصحح:	سوالات در ۵ صفحه

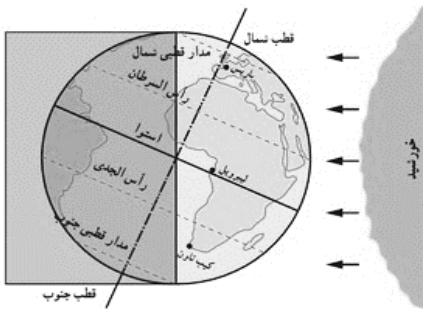
ردیف	پایه نهم	نمره
------	----------	------

ادامه بخش مدنی	۲۰- فرض کنید خانواده شما در تعطیلات تابستان قصد سفر دارند. دو راهکار مناسب برای افزایش بهره‌وری و داشتن مسافرتی لذتبخش، پیشنهاد دهید. (الف) (ب)	۱
	۲۱- دو مورد از وظایف و اختیارات رهبر جمهوری اسلامی را بنویسید.	۰/۵
	۲۲- اقتصاد مقاومتی چیست؟	۱
	۲۳- منظور از «تعارض نقش» را با ذکر مثال توضیح دهید.	۱
	۲۴- مالیات و عوارض چه تفاوتی با هم دارند؟	۱

**سوالات اختیاری: دانش آموز عزیز لطفاً در این بخش دو فصل را به دلخواه انتخاب کنید و فقط به سوال‌های همان دو فصل پاسخ دهید.**

فصل اول	۲۵- در جملات زیر یک اشتباه علمی وجود دارد آن را اصلاح نمایید. (فعل جمله صحیح است). (الف) یکی از نتایج حرکت انتقالی زمین، پیدایش شب و روز است. (ب) نصف النهاراتی که داخل یک قاچ قرار گرفته اند به طور توافقی ساعت متفاوتی دارند.	۰/۵
---------	---	-----

فصل اول	۲۶- با توجه به شکل مقابل مشخص کنید که در نیمکره شمالی کدام پدیده بوجود آمده است؟ در مورد آن توضیح دهید. (الف) انقلاب تابستانی □ (ب) انقلاب زمستانی □	۱
---------	---	---



فصل اول	۲۷- اگر مسافری از اصفهان به تورنتو (کانادا) سفر کند باید ساعت خود را عقب بکشد یا جلو؟ چرا؟	۱
---------	--	---

نام و نام خانوادگی:		باسمه تعالی	نام درس: مطالعات اجتماعی
نام پدر:		اداره سنجش	مدت امتحان: ۶۰ دقیقه
نام آموزشگاه:		مدیریت آموزش و پرورش .....	ساعت امتحان:
نمره کتبی:	نمره شفاهی - عملی:	جمع نمره با حروف:	نام و نام خانوادگی و امضای مصحح:

ردیف	پایه نهم	نمره
------	----------	------

۰/۷۵	۲۸- چرا مطالعات در مورد اقیانوس‌ها و بستر آن‌ها با دشواری‌های زیادی روبه‌رو است؟ (سه مورد ذکر نمایید). ۱- ..... ۲- ..... ۳- .....	فصل دوم
------	--	---------

۰/۷۵	۲۹- از نتایج حرکت ورقه‌ها در پوسته، سه مورد بنویسید. ۱- ..... ۲- ..... ۳- .....	فصل دوم
------	--	---------

۱	۳۰- نام محیط‌های زمین را بر روی شکل مقابل نشان دهید. 	فصل سوم
---	--	---------

۰/۷۵	۳۱- هر یک از مناطق زیر در کدام زیست بوم واقع شده‌اند؟ <table border="1" data-bbox="279 1164 1284 1254"> <tr> <td>ساوان</td> <td>بیابان</td> <td>تایگا</td> <td>توندررا</td> </tr> </table> ( الف ) کانادا ( ) ( ب ) مجاور جنگل‌های استوایی آفریقا ( ) ( ج ) حاشیه اقیانوس منجمد شمالی ( )	ساوان	بیابان	تایگا	توندررا	فصل سوم
ساوان	بیابان	تایگا	توندررا			

۱	۳۲- چه راهکارهایی را برای حفاظت از جنگل‌های استوایی پیشنهاد می‌دهید؟ ( دو مورد )	فصل سوم
---	--	---------

۰/۷۵	۳۳- مهم‌ترین عواملی که باعث تخریب زیستگاه‌ها می‌شوند را بنویسید؟ (سه مورد )	فصل سوم
ادامه سوالات در صفحه بعد		

نام و نام خانوادگی:		باسمه تعالی		نام درس: مطالعات اجتماعی	
نام پدر:		اداره سنجش		تاریخ امتحان:	
نام آموزشگاه:		مدیریت آموزش و پرورش .....		مدت امتحان: ۶۰ دقیقه	
نمره کتبی:		نمره شفاهی - عملی:		جمع نمره با حروف:	
نام و نام خانوادگی و امضای مصحح:					

ردیف	پایه نهم	نمره
------	----------	------

۳۴- تفاوت میان موالید و مرگ و میر رشد طبیعی جمعیت را نشان می‌دهد.	درست <input type="checkbox"/> نادرست <input type="checkbox"/>	۰/۲۵
۳۵- در دو قرن اخیر کدام عامل موجب کاهش چشمگیر مرگ و میر شده است؟	الف) بهبود آموزش <input type="checkbox"/> ب) درآمد زیاد <input type="checkbox"/> ج) مهاجرت از روستا <input type="checkbox"/> د) بهبود تغذیه <input type="checkbox"/>	۱/۲۵
۳۶- ملاک‌های توسعه انسانی عبارتند از:	الف)..... ب)..... ج).....	۰/۷۵
۳۷- کدام مناطق زمین جمعیت بیشتری به خود جذب می‌کند؟		۰/۲۵
۳۸- مهاجرت اجباری و اختیاری چه تفاوتی با هم دارند؟ برای هر کدام یک مثال بزنید.		۱
۳۹- من کیستم؟ (.....)	(از صوفیان معروف زمان خود بودم؛ که پیروان زیادی داشتم؛ خانقاهم در اردبیل مورد توجه مردم و حاکمان محلی بود.)	۰/۵
۴۰- دو عامل گسترش و رونق تجارت در عصر صفوی را بیان کنید.	الف)..... ب).....	۱
۴۱- اوضاع سیاسی ایران در ارتباط با دشمنان خارجی، هنگام تأسیس حکومت صفوی چگونه بود؟ (این وضعیت را در دو سطر تشریح نمایید.)		۱
۴۲- چرا امیرکبیر مدرسه‌ی دارالفنون را تأسیس کرد؟		۱
۴۳- در ارتباط با حکومت زندیه به سوالات زیر پاسخ دهید.	الف) بنیانگذار سلسله: ..... ب) نوع رفتار بنیانگذار با مردم: .....	۰/۵
۴۴- دلایل افزایش فعالیت‌ها و رقابت‌های استعماری کشورهای اروپایی بعد از انقلاب صنعتی بود؟	الف)..... ب).....	۱
جمع بارم		۲۰

موفق و پیروز باشید.

# پیاموز | Biamoz.com

بزرگترین مرجع آموزشی و نمونه سوالات درسی تمامی مقاطع

شامل انواع | نمونه سوالات | فصل به فصل | پایان ترم | جزوه |

ویدئوهای آموزشی | گام به گام | طرح درس | طرح جابر | و ...

اینستاگرام

گروه تلگرام

کانال تلگرام

برای ورود به هر پایه در سایت ما روی اسم آن کلیک کنید

## دبستان

اول	دوم	سوم	چهارم	پنجم	ششم
-----	-----	-----	-------	------	-----

## متوسطه اول

هفتم	هشتم	نهم
------	------	-----

## متوسطه دوم

دهم	یازدهم	دوازدهم
-----	--------	---------